

**CUIDADOR DE EDUCAÇÃO INFANTIL**

Nome do Candidato _____		Nº Inscrição _____	Nº Prova <b>3279</b>
Documento _____	Tipo <b>N</b>	Local _____	

**LEIA COM ATENÇÃO AS INSTRUÇÕES ABAIXO:**

- É proibido folhear o caderno de provas antes da autorização do fiscal.**
- É responsabilidade exclusiva do candidato à conferência de seus dados pessoais, em especial o nome, o número de inscrição, o número de seu documento de identidade, cargo de sua opção e a marcação do gabarito na sua Folha de Respostas. Quaisquer problemas deverão ser comunicados ao fiscal/chefe de sala, para registro em ata.
- Confira os dados impressos no cartão resposta e se este caderno de provas corresponde ao cargo (cabeçalho desta página) para o qual você se candidatou.
- Assine o cartão de respostas.**
- Verifique se este caderno de prova contém **50 questões**. Não serão consideradas reclamações posteriores ao término da prova.
- Cada questão da prova objetiva constitui-se de cinco alternativas, identificadas pelas letras A, B, C, D e E, das quais apenas uma será a resposta correta.
- Preencha o cartão de respostas da prova objetiva utilizando caneta esferográfica azul ou preta, preenchendo totalmente o campo de marcação, ao lado dos números, que corresponde à resposta correta.
- Serão consideradas incorretas questões para as quais o candidato tenha preenchido no cartão resposta mais de uma opção, bem como questões em que o campo de marcação apresente rasuras, emendas ou que não esteja preenchido integralmente.
- O cartão resposta será o único documento válido para a correção das provas objetivas e não será substituído em hipótese alguma; portanto, evite rasuras.
- Em sala, a comunicação entre os candidatos não será permitida, sob qualquer forma ou alegação.
- Não será permitido o uso de calculadoras, dicionários, telefones celulares, pen drive ou de qualquer outro recurso didático, elétrico ou eletrônico, nem o uso de qualquer acessório que cubra as orelhas do candidato.
- A prova objetiva terá duração máxima de 3 horas e 30 minutos**, incluído o tempo para preenchimento do cartão de respostas.
- O candidato somente poderá retirar-se do local de prova após 1 (uma) hora de seu início e poderá levar o caderno de provas 1 (uma) hora antes de seu término.
- Os (3) três últimos candidatos somente poderão retirar-se da sala de prova simultaneamente e devem fazê-lo após a assinatura da ata de sala.**
- As saídas para banheiro, tomar medicamento e água, só serão permitidas durante a realização das provas. Não será permitida a permanência de candidatos no local de realização das provas após o término e a entrega do cartão respostas, devendo o candidato retirar-se imediatamente do local, não sendo possível nem mesmo a utilização dos banheiros e bebedouros.
- Os fiscais **NÃO** estão autorizados a prestar informações de interpretação das questões. Sua função é apenas fiscalizar e orientar quanto ao funcionamento do certame.
- Ao concluir a prova, entregue ao fiscal de sala o cartão de respostas.

**Boa prova!**

01		02		03		04		05		06		07		08		09		10	
11		12		13		14		15		16		17		18		19		20	
21		22		23		24		25		26		27		28		29		30	
31		32		33		34		35		36		37		38		39		40	
41		42		43		44		45		46		47		48		49		50	



## RASCUNHO

**Língua Portuguesa****TEXTO 01**

O texto abaixo servirá de base para responder as questões de 01 a 05.

O lixo nosso de cada dia

Após o feriado de São Sebastião, dia 20 de janeiro, a Comlurb recolheu 40 toneladas de lixo das areias da Praia de Copacabana. Os resíduos ficaram expostos para chamar a atenção da população. No início do ano, a queima de fogos nas praias do Rio durante os festejos do Réveillon resultou em 700 toneladas de lixo na orla carioca. [...] Mais um retrato do mau hábito de descartar lixo em local impróprio, ainda tão inserido na população, e de suas consequências para as finanças municipais e para o ambiente. [...]

É equivocado o pensamento de que limpeza urbana é um problema unicamente do poder público. Em muitos países, a população já compreendeu que o descarte e o tratamento do lixo também são de responsabilidade de quem o produz. Garantir que ele chegue ao destino adequado é uma questão de cidadania e respeito ao futuro.

Em Tóquio, por exemplo, não existe a necessidade de instalação de lixeiras nas ruas. Os moradores entendem que possuem a obrigação de levar o lixo para casa e separá-lo para a coleta seletiva. [...]

Já em terras cariocas, mais de 1,2 milhão de toneladas de lixo é recolhido por ano nas ruas da cidade, mais do que o dobro do que é lançado nas vias de países desenvolvidos, segundo dados da própria prefeitura. O grande impacto da sujeira para o orçamento fez com que a poder municipal chegasse a uma atitude extrema: a de multar aqueles que jogarem lixo nas ruas.

A medida [...] é eficiente, mas precisa ser aliada a campanhas de conscientização. [...] É preciso despertar o interesse em viver em um ambiente mais limpo e saudável, e a consciência de que é necessário cumprir nossos deveres de cidadão, como descartar o lixo corretamente. [...]

Fonte (adaptada):  
<https://oglobo.globo.com/opiniaio/o-lixo-nosso-de-cada-dia-11445133>

**Questão 01**

"A medida [...] é eficiente". A palavra que pode substituir a que está em destaque no período é:

- a) Equivocada.
- b) Distinta.
- c) Inconveniente.
- d) Eficaz.
- e) Garbosa.

**Questão 02**

Sobre o texto, leia as afirmativas a seguir:

- I. O problema do descarte inadequado do lixo nas praias brasileiras é o assunto principal do texto.
- II. A limpeza urbana é um problema unicamente do poder público.
- III. No Rio de Janeiro, os moradores separam o lixo para a coleta seletiva.

Está correto o que se afirma em:

- a) d) II.
- b) b) II e III.
- c) c) I e II.
- d) a) I.
- e) e) I e III.

**Questão 03**

Em "Os moradores entendem que possuem a obrigação de levar o lixo para casa e separá-lo para a coleta seletiva". [...] A conjunção em destaque pode ser classificada como coordenativa:

- a) Adversativa.
- b) Alternativa.
- c) Conclusiva.
- d) Explicativa.
- e) Aditiva.

**Questão 04**

Os colchetes foram usados no texto para:

- a) Formular perguntas diretas.
- b) Mostrar a citação de alguém.
- c) Apontar a mudança de interlocutor em um diálogo.
- d) Fazer uma citação ou introduzir uma fala.
- e) Indicar omissões de partes na transcrição de um texto.

**Questão 05**

No período "Os resíduos ficaram expostos para chamar a atenção da população." O sujeito destacado classifica-se como:

- a) Simples.
- b) Oculto/Elíptico
- c) Não há sujeito.
- d) Indeterminado.
- e) Composto.

**TEXTO 02**

O texto abaixo servirá de base para responder as questões de 06 a 09.

**Avião X Vapor**

A minha avó, dona Fernanda, [...] formou um grupo super grande de amigas que trabalhavam muito [...].

Adoravam viajar juntas para estações termais, como Lindoia, São Pedro, etc. [...].

Naquele ano programaram uma viagem para a Itália, em pleno verão Europeu.

Quando suas amigas a convidaram e a nossa família insistiu para que fosse, ela descartou logo de cara "Não vou" [...]. Dizia. "Só gosto de vapor". [...]

"Tenho pavor de avião".

As amigas não se conformaram: "mas, Nanda, você gosta tanto de viajar, gosta da nossa companhia", "Gosto, mas de avião não vou". "Mas você foi tantas vezes para a Itália". "Fui, mas de vapor. De avião não vou".

[...] Insistimos, para ela ir. "Mas Nona, vamos pedir para o seu médico receitar um comprimidinho, você vai dormir a viagem toda".

Ela ficou desconfiada e perguntou se era muito forte esse remédio. Seu médico acalmou a Nona e, com um pouco de convencimento por parte dos filhos e das amigas, resolveu ir. Quando ia entrar no avião tomou o comprimido. Sentou no seu lugar e apagou. Quando acordou já estava na Itália.

Gostou tanto que disse: - "Agora só viajo de avião". [...]

Fonte (adaptada) : <http://literalmentelivres.com.br/aviao-x-vapor/>

**Questão 06**

Em "A minha avó, dona Fernanda, [...]", o termo destacado é:

- a) Objeto Indireto.
- b) Adjunto Adverbial.
- c) Objeto Direto.
- d) Aposto.
- e) Vocativo.

**Questão 07**

O trecho que apresenta uma relação de causa e consequência é:

- a) "... tomou o comprimido. Sentou no seu lugar e apagou."
- b) "As amigas não se conformaram..."
- c) "Adoravam viajar juntas para estações termais,..."
- d) "...formou um grupo super grande de amigas que trabalhavam muito..."
- e) "Naquele ano programaram uma viagem para a Itália, ..."

**Questão 08**

Sobre o texto, classifique as afirmações abaixo como verdadeiras (V) ou falsas (F):

- ( ) Dona Fernanda não tinha medo de fazer viagens de avião.
- ( ) Dona Fernanda e suas amigas adoravam viajar juntas.
- ( ) Dona Fernanda dormiu a viagem toda.

A sequência correta é:

- a) F - F - F.
- b) F - V - V.
- c) V - V - V.
- d) V - V - F.
- e) F - V - F.

**Questão 09**

"Tenho pavor de avião". O antônimo da palavra em destaque é:

- a) Fascínio.
- b) Aversão.
- c) Medo.
- d) Horror.
- e) Nojo.

### Questão 10

Assinale a opção em que todas as palavras são paroxítonas:

- a) Matemática, dúvida, felicidade.
- b) Saci, geladeira, próximo.
- c) Glúten, café, árvore.
- d) Patético, jacaré, bíceps.
- e) Mesa, sótão, cidade.

### Questão 11

Observe as frases abaixo:

- 1. Preciso corrigir o e-mail que enviei.
- 2. Meu pai já quer ligar a churrasqueira.
- 3. O marido da minha amiga é um homem educado.
- 4. O trânsito está intenso na Marginal Tietê.
- 5. Um dos acusados denunciou o companheiro de lavagem de dinheiro.

Os vocábulo grifados equivalem respectivamente a:

- a) ratificar, ascender, cavaleiro, tráfico, dilatou.
- b) retificar, acender, cavalheiro, tráfico, delatou.
- c) retificar, ascender, cavaleiro, tráfico, dilatou.
- d) ratificar, ascender, cavalheiro, tráfico, delatou.
- e) ratificar, acender, cavalheiro, tráfico, delatou.

### Questão 12

Observe as figuras de linguagem das frases abaixo e assinale a alternativa que as classifica, respectivamente, de forma correta:

- I- Suba para cima, meu filho!
- II- Chutei o pé da cama sem querer.
- III- Meu avô gosta de ler Carlos Drummond de Andrade.

- a) Metonímia, Prosopopeia, Catacrese.
- b) Catacrese, Metonímia, Metáfora.
- c) Pleonasma, Catacrese, Metonímia.
- d) Metáfora, Prosopopeia, Pleonasma.
- e) Prosopopeia, Metáfora, Metonímia.

### Questão 13

Assinale a alternativa em que há desvio em relação à presença do acento indicativo de crase:

- a) Fui à Bahia visitar meus parentes.
- b) Quero ir à praia no fim de semana.
- c) Às vezes, me dá um aperto no coração.
- d) Cheguei à escola às 7h15min.
- e) Andamos à cavalo no haras do meu tio.

### Questão 14

Assinale a opção que em há erro de regência verbal:

- a) Contratei um professor particular para assistir ao meu filho.
- b) Quero assistir ao filme que está em cartaz.
- c) A prefeitura tem um programa que assiste os menores abandonados.
- d) Meu esposo quer assistir ao jogo hoje à noite.
- e) O médico assistiu o doente no corredor.

### Questão 15

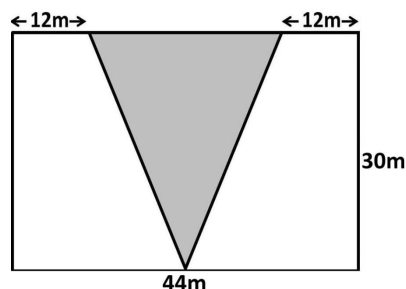
Indique a alternativa em que não há erro de concordância:

- a) Pode haver erros nos documentos exigidos pela direção.
- b) Deve existir erros nos documentos exigidos pela direção.
- c) Pode existir erros nos documentos exigidos pela direção.
- d) Devem haver erros nos documentos exigidos pela direção.
- e) Podem haver erros nos documentos exigidos pela direção.

## Raciocínio Lógico/Matemática

### Questão 16






A figura abaixo representa um terreno onde será feita uma praça triangular, formando uma bifurcação e dando origem a duas ruas. Sabendo que a praça esta centralizada, a área que restará em cada lado para a construção das ruas será de:



- a) 1320m<sup>2</sup>.
- b) 510m<sup>2</sup>.
- c) 300m<sup>2</sup>.
- d) 1020m<sup>2</sup>.
- e) 600m<sup>2</sup>.

### Questão 17

Qual dos gráficos abaixo representa uma função exponencial?

- a) 
- b) 
- c) 
- d) 
- e) 

### Questão 18

Uma escola tem duas turmas de 3<sup>a</sup> série do ensino médio. A turma 1 tem 36 alunos e a turma 2 tem 30. A professora de Sociologia vai promover um trabalho de interação formando grupos mistos. Qual é a maior quantidade de grupos, com o mesmo número de participantes, que é possível formar?

- a) 15 grupos.
- b) 10 grupos.
- c) 5 grupos.
- d) 6 grupos.
- e) 11 grupos.

### Questão 19

O "Problema de Einstein" é um desafio de lógica muito conhecido. Alguns são muito difíceis, mas este você vai resolver com facilidade. Resolva e escolha a opção que corresponde à resposta correta.

Três carros estão enfileirados no estacionamento de um shopping. Um preto, um azul e um branco.

- O carro de Carlos está à direita do carro branco;
- Lúcio é dono do carro azul;
- O carro de Marcos é o do meio.

Indique qual é a cor e o nome do dono de cada carro.

	CARRO 1	CARRO 2	CARRO 3
COR			
DONO			

- a) O carro 1 é de Lúcio e é azul, o carro 2 é de Marcos e é branco e o carro 3 é de Carlos e é preto.
- b) O carro 1 é de Lúcio e é branco, o carro 2 é de Marcos e é azul e o carro 3 é de Carlos e é preto.
- c) O carro 1 é de Marcos e é branco, o carro 2 é de Lúcio e é azul e o carro 3 é de Carlos e é preto.
- d) O carro 1 é de Carlos e é preto, o carro 2 é de Marcos e é branco e o carro 3 é de Lúcio e é azul.
- e) O carro 1 é de Marcos e é azul, o carro 2 é de Carlos e é preto e o carro 3 é de Lúcio e é branco.

### Questão 20

Um processo seletivo realizado para contratar duas pessoas que trabalharão juntas no projeto de uma startup teve oito inscritos. Para avaliar o nível de interação entre os candidatos foi preciso combinar, de todas as formas possíveis, os oito candidatos de dois em dois. Qual o total de duplas formadas?

- a) 2 duplas.
- b) 4 duplas.
- c) 28 duplas.
- d) 16 duplas.
- e) 8 duplas.

### Questão 21

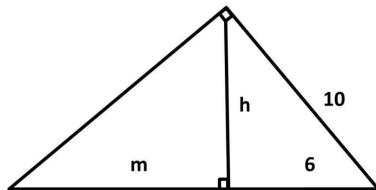
Para ensinar seu filho Lucas a economizar, Luiz que é dono de uma loja de roupas, lhe deu um cofre com R\$ 100,00 e fez a seguinte proposta. Todo mês Lucas deve depositar no cofre 2% do que ganhar de comissão sobre o que vende ajudando seu pai na loja. Assim, o acumulado das economias de Lucas todo mês obedece a função:

- a)  $f(X) = 100 + 2X$
- b)  $f(X) = 100 + 0,02X$

- c)  $f(X) = 2/100 + X$   
d)  $f(X) = 100 + 0,2X$   
e)  $f(X) = 100 + X/2$

### Questão 22

O Teorema de Pitágoras parece uma equação simples, mas tudo que é produzido por gênios como ele pode ser muito mais complexo do que parece. Neste caso existem variações que formam um grupo de equações chamado de "relações métricas no triângulo retângulo". Uma delas é a relação ( $h^2 = m.n$ ). Usando estas informações encontraremos para m um valor de, aproximadamente:



- a) 106,6 cm.  
b) 10,66 cm.  
c) 1066 cm.  
d) 0,1066 cm.  
e) 1,066 cm.

### Questão 23

O senhor José, dono de uma padaria decidiu fazer uma pesquisa para avaliar a preferência de seus clientes entre os cinco tipos de bolo mais vendidos e montou uma tabela. Analisando a tabela podemos afirmar que:

TIPO DE BOLO	CLIENTES
CHOCOLATE	118
FUBÁ	95
AIPIM	64
BANANA	126
CAÇAROLA	52

- a) A moda é 52.  
b) A amplitude é 74.

- c) A média aritmética simples é 102.  
d) A média aritmética ponderada é 27.  
e) A mediana é 118.

### Questão 24

Marília fez um investimento, a juros simples de 1,5% ao mês durante 2 anos e no final deste período recebeu a quantia de R\$ 10880,00. O capital investido foi:

- a) R\$ 5120,00  
b) R\$ 8000,00  
c) R\$ 10000,00  
d) R\$ 8288,00  
e) R\$ 2880,00

### Questão 25

Paulo e seus ajudantes constroem um muro de 15 metros de comprimento em 10 dias. Quantos dias serão necessários para que eles construam um muro de 33 metros?

- a) 30 dias.  
b) 20 dias.  
c) 32 dias.  
d) 22 dias.  
e) 44 dias.

## Noções de Informática

### Questão 26

No Word 2007 o usuário necessita colocar um espaçamento de 1,5 entre as linhas em um texto de um documento, na barra de ferramentas Início ele deverá clicar para indicar antes de iniciar ou depois selecionando o texto que deseja configurar deverá clicar em qual opção:

- a) Espaçamento entre linhas  
b) Alterar Estilos  
c) Lista de vários níveis  
d) Marcadores  
e) Aumentar recuo

### Questão 27

No Editor de texto Word do Microsoft Office 2007 tem uma ferramenta muito útil para formatação avançada representado pelo ¶, ela fica localizada na barra de ferramentas Início na versão do Word 2007

e seu nome e finalidade num documento é exatamente:

- a) Novo parágrafo: criar novo parágrafo no documento.
- b) Formatação Condicional: criar através dessa ferramenta formatação condicional no texto.
- c) Parágrafo: indicar a quantidade em números de parágrafos no documento.
- d) Pi : atalho para indicar o valor de pi 3,14 no documento.
- e) Mostrar Tudo: mostras marcas de parágrafo e outros símbolos de formatação ocultos.

### Questão 28

Dada a tabela abaixo siga as orientações seguintes:

	A	B	C	D	E	F	G	H
		1º	2º	3º	4º	5º	6º	
1	NOME	VALOR	VALOR	VALOR	VALOR	VALOR	VALOR	TOTAL
2	Carlos	4	8	7	1	5	9	
3	Magno	5	9	5	4	7	4	
4	Marcos	6	10	7	3	3	5	
5	Valéria	7	7	7	5	2	3	
6	Ana	1	4	5	6	8	9	

O usuário do Microsoft Excel 2007 quer saber a SOMA dos valores referente a pessoa MARCOS considerando os valores das colunas (2º Valor e 6º Valor) qual a fórmula mais ADEQUADA e CORRETA para fazer esse cálculo sabendo que esses valores podem ser atualizados no futuro, na célula H4 da coluna TOTAL:

- a) =SOMA(C4:G4)
- b) =SOMA(C4;G4)
- c) =SOMA(10/5)
- d) =SOMA(MARCOS(2º VALOR + 6º VALOR))
- e) =SOMA(C4\*G4)

### Questão 29

Um comando no teclado muito útil no agiliza no desenvolvimento de um texto no Microsoft Word 2007 para **iniciar uma nova página no mesmo documento** sem ter de teclar ENTER sozinha várias vezes até o final da página, é exatamente a combinação das teclas:


- a) CTRL + P
- b) CTRL + X
- c) CTRL + I

d) CTRL + ENTER

e) CTRL + E

### Questão 30

No Microsoft Excel 2007 existe uma ferramenta na barra de ferramentas **Início** que é representada pela imagem:



Sua finalidade no Microsoft Excel 2007 é exatamente:

- a) Permitir que várias pessoas trabalhem em um pasta de trabalho ao mesmo tempo.
- b) Impedir que dados inválidos sejam digitalizados em uma célula. Por exemplo, você pode rejeitar as datas ou os números inválidos maiores que 1000.
- c) Formatar rapidamente um intervalo de células e convertê-lo em tabela, escolhendo um estilo de tabela predefinido.
- d) Iniciar a caixa de diálogo classificar para classificar os dados com base em vários critérios ao mesmo tempo.
- e) Realçar as células de seu interesse, enfatizar valores incomuns e visualizar dados usando Barras de Dados, Escalas de Cor e Conjuntos de Ícones, baseado em critérios específicos.

## Conhecimentos Gerais

### Questão 31

"O que eu vejo é as pessoas não conhecerem, ou acharem que essas doenças não existem, que são coisas do passado e o vírus está aí circulando. A gente tem que alertar que essa negligência, esse esquecimento, essa falta de cumprir uma caderneta de vacinação, o preço pode ser a vida dessa criança", alertou o ministro da Saúde, Luiz Henrique Mandetta.

O Ministério da saúde lançou no dia 10 de fevereiro mais uma campanha de vacinação, e no texto acima o ministro atenta para a importância de se levar a sério as ações de prevenção. Desta vez a campanha é para vacinar crianças e jovens de 5 a 19 anos contra:



- a) A dengue.
- b) A febre amarela.
- c) O sarampo.
- d) A malária.
- e) O coronavírus.

**Questão 32**

Em reportagem de 11/02/2020 o site a gazeta informa que o Espírito Santo fará parte de uma comissão, junto com outro cinco estados, para tentar formular um acordo sobre a distribuição dos royalties de petróleo. Hoje os entes produtores recebem um valor maior que os outros, mas um processo no STF vai determinar a distribuição igualitária os recursos provenientes da exploração do pré-sal. Mas o que é royalties?

- a) É um imposto que o estado onde há exploração do pré-sal paga ao governo federal.
- b) É o valor pago pela compra de um produto, seja ele qual for.
- c) É uma indenização paga a todas as famílias que reside na região onde é feita a exploração de algum produto.
- d) É uma quantia que é paga por alguém ao proprietário pelo direito de usar, explorar ou comercializar um produto, obra, terreno, etc.
- e) É um imposto pago sobre a exportação de um produto.

**Questão 33**

Entre os principais destaques da economia de Fundão está a agricultura, com especial atenção para um produto do qual, segundo informa a prefeitura deste município, são produzidas cerca de 70 toneladas por ano. Tãmanha é a sua importância que foi fundada uma cooperativa para profissionalizar o negócio, garantindo renda e trabalho para as famílias produtoras. Este produto é:

- a) A cachaça.
- b) O mamão.
- c) O granito.
- d) O feijão.
- e) O mel.

**Questão 34**

No capítulo que trata da educação, um item da Lei Orgânica do município de Fundão diz que os recursos do município serão destinados às escolas públicas, mas podem ser dirigidos às escolas

comunitárias, às confessionais ou filantrópicas, definidas em lei, desde que:

- a) I) Comproven finalidade não lucrativa e apliquem seus excedentes financeiros em projetos artísticos;  
II) Assegurem a destinação de seu patrimônio a outra escola comunitária, filantrópica, privada ou confessional ou ao Município, no caso de encerramento de suas atividades.
- b) I) Comproven finalidade não lucrativa e apliquem seus excedentes financeiros em educação;  
II) Assegurem a destinação de seu patrimônio a outra escola comunitária, filantrópica ou confessional ou ao Município, no caso de encerramento de suas atividades.
- c) I) Comproven finalidade não lucrativa e apliquem seus excedentes financeiros em atividades culturais;  
II) Assegurem a destinação de seu patrimônio a outra escola comunitária, filantrópica, ou confessional ou ao Município, no caso de encerramento de suas atividades.
- d) I) Comproven ou não finalidade não lucrativa e apliquem seus excedentes financeiros em educação;  
II) Assegurem a destinação de seu patrimônio a outra escola comunitária, filantrópica ou confessional ou ao Município, no caso de encerramento de suas atividades.
- e) I) Comproven finalidade não lucrativa e apliquem seus excedentes financeiros em educação;  
II) Assegurem a destinação de seu patrimônio a outra escola comunitária, filantrópica, privada ou confessional ou ao Município, no caso de encerramento de suas atividades.

**Questão 35**

O Art. 71 da Lei Orgânica do município de Fundão diz que: São estáveis, após (\_\_\_\_\_) de efetivo exercício, os servidores nomeados em virtude de concurso público.

- a) Três anos.
- b) Um ano.
- c) Dois anos.
- d) Três meses.
- e) Cinco anos.

**Questão 36**

A televisão pública britânica BBC anunciou, nesta segunda-feira (10/02/2020), que produzirá uma série

de documentários com a participação da \_\_\_\_\_ Greta Thunberg, que falará sobre sua vida e explorará as descobertas dos cientistas. A iniciativa é uma excelente notícia, pois ajudará a divulgar em todo o mundo o trabalho desta jovem menina que luta por uma causa de interesse de todos.

Assinale a alternativa que complete corretamente a lacuna no texto:

- a) presidente da Organização das Nações Unidas (ONU)
- b) ativista social sueca
- c) ativista ambiental sueca
- d) defensora dos direitos humanos
- e) militante em defesa do feminismo

#### Questão 37

Com logística privilegiada, o município de Fundão se beneficia no sentido de que o escoamento da produção agrícola é facilitado, incentivando e beneficiando os produtores e aquecendo a economia local. Todos estes benefícios só são possíveis porque por este município passam:

- a) A BR-101 e a ferrovia Vitória a Minas.
- b) A BR-262 e a Ferrovia Vitória a Minas.
- c) A BR-101 e a rodovia Vitória a Minas.
- d) A BR-262 e a rodovia Vitória a Minas.
- e) A BR-262 e a BR-101.

#### Questão 38

O Capítulo II do Regime Jurídico Único (Lei 804/1993) trata das vantagens pecuniárias e o artigo 74 da seção I (da especificação) cita as vantagens pecuniárias que o servidor receberá, além do vencimento. Entre as alternativas escolha a que **NÃO** configura uma destas vantagens:

- a) Auxílios pecuniários.
- b) Indenização.
- c) Gratificações e adicionais.
- d) Seguro de vida.
- e) Décimo terceiro vencimento.

#### Questão 39

De acordo com a Lei 804/1993 que institui o Regime Jurídico Único para os servidores de Fundão, **NÃO** consta entre os requisitos básicos para ingresso no serviço público:

- a) Boa saúde física e mental comprovada em inspeção médica oficial.
- b) O atendimento às condições especiais previstas em lei para determinados cargos.
- c) A idade mínima de dezesseis anos.
- d) A quitação com as obrigações militares e eleitorais.
- e) A nacionalidade brasileira.

#### Questão 40

A cidade de Fundão tem como principal atração turística as praias do distrito de Praia Grande, mas se engana quem pensa que esta é a única atração deste município. A área rural da cidade também tem seus atrativos. De acordo com informações que constam na página do município um dos destaques é:

- a) A culinária.
- b) A ferrovia.
- c) A Igreja dos Reis Magos.
- d) O Mosteiro Budista
- e) A Cachoeira de Fundão.

### Conhecimentos Específicos

#### Questão 41

A educação infantil se diferencia das outras modalidades de ensino, pois o desenvolvimento intelectual não é seu único objetivo. É preciso reconhecer as limitações e necessidades de cada criança e usar de afetividade, compreensão e dedicação no trato diário. É possível afirmar que a educação infantil abrange:

- a) Brincar e cuidar.
- b) Educar e brincar.
- c) Brincar e ensinar.
- d) Ensinar e aprender.
- e) Educar e cuidar.

#### Questão 42

Crianças com necessidades educativas especiais requerem cuidados especiais. Respeitar suas individualidades é essencial dentro do contexto educacional, dada a necessidade de lhes oferecer:

- a) Atividades que não ampliem seu desenvolvimento cognitivo.
- b) Oportunidades diferenciadas que atendam às suas necessidades, inseridas em um mesmo contexto, a fim de que seu desenvolvimento intelectual e social se dê na mesma proporção do das outras crianças.
- c) Ambientes favoráveis ao seu desenvolvimento, evitando a participação das outras crianças.
- d) Ambientes exclusivos para evitar eventuais constrangimentos.
- e) Atividades de nível intelectual e cognitivo idênticas às das outras crianças.

**Questão 43**

"A construção da consciência da necessidade dos mais jovens agirem com respeito e observarem o impacto de suas ações nos mais diversos ambientes depende, acima de tudo, do diálogo, da troca constante de impressões, reprovações ou afirmações entre a criança, os pais e educadores".

O texto acima, retirado do site <https://esperanca.com.br/>, retrata:

- a) O papel da escola na formação integral da criança.
- b) O desejo da família de que a escola assuma total responsabilidade sobre a formação da criança, ensinando-a limites e responsabilidades.
- c) Os erros que tanto família quanto escola cometem ao impor limites às crianças.
- d) A relevância de saber trabalhar na criança a consciência da importância de se por limites às suas vontades e ações.
- e) A culpa da família na formação de jovens que não sabem respeitar limites.

**Questão 44**

Na educação infantil tudo é novidade para a criança. Assim, ter um adulto por perto é fundamental, mas para garantir a construção da identidade e o desenvolvimento da autoestima é preciso que este adulto lhe ofereça um suporte, baseado em fatores como:

- a) Superioridade e assistencialismo.
- b) Afeto, respeito, atitude e imposição.
- c) Assistencialismo, proteção e carinho.
- d) Respeito e autoritarismo.

- e) Encorajamento, afeto, respeito e limites.

**Questão 45**

Na sociedade moderna já não há mais espaço para comportamentos e falas de intolerância às diferenças e particularidades de cada indivíduo. Sem dúvida alguma, é preciso que o respeito e a empatia sejam trabalhados em todos os espaços educacionais, até mesmo na educação infantil. Portanto é preciso que:

- a) A escola entenda as diferenças, mas se isente de abordar temas relacionados à pluralidade cultural.
- b) A pluralidade cultural seja trabalhada entre as crianças por meio de atividades que lhes desperte o interesse pelo bem comum.
- c) A sociedade compreenda que não existem recursos adequados para a abordagem de temas relacionados à pluralidade cultural na educação infantil.
- d) A educação infantil compreenda apenas atividades relacionadas ao desenvolvimento intelectual da criança.
- e) As instituições de educação infantil deixem para os anos seguintes as questões socioculturais.

**Questão 46**

"As atividades recreativas para educação infantil, distinguem-se dos jogos por terem regras simples e flexíveis, não se necessitando de quadras, tabuleiros, instruções, treinamento, peças ou dispositivos especiais para delas se participar". (<https://atividadespedagogicas.net>)

A análise do texto acima nos faz entender que se caracteriza como uma recreação pedagógica para crianças da educação infantil:

- a) Ludo.
- b) Xadrez.
- c) Damas.
- d) Bingo de operações matemáticas.
- e) Calçar e descalçar primeiro.

**Questão 47**

Em qualquer etapa do processo educacional, até mesmo na educação de jovens e adultos, o "brincar pedagógico" torna o processo de aprendizagem menos cansativo e até mais significativo. Na educação infantil ele é essencial. Por já ser objeto de estudo e ter seus resultados comprovados esta prática já é sistematizada e chamada de:

- a) Planejamento.
- b) Aprendizagem.
- c) Educação.
- d) Brincadeira.
- e) Ludicidade.

#### Questão 48

A educação infantil é uma modalidade de ensino que se diferencia das outras, pois traz em si uma responsabilidade a mais. Assim, podemos afirmar que:

- a) Alimentação, repouso, higiene e proteção são cuidados essenciais com os quais só a família deve se preocupar.
- b) A sociedade tem atribuído às instituições de ensino responsabilidades que não fazem parte do processo educacional.
- c) As políticas públicas direcionadas à educação não levam em consideração a sobrecarga imposta sobre os profissionais que lidam diretamente com as crianças.
- d) Apesar da demanda, a escola não deve se comprometer com o que vai além de suas responsabilidades educacionais.
- e) Alimentação, repouso, higiene e proteção são cuidados essenciais que, não só a família, mas também as instituições de educação infantil devem ter com as crianças.

#### Questão 49

"É preciso preocupar-nos em relação à formação das crianças, não apenas com o ensino dos conhecimentos sistematizados, mas também com o ensino de expressões, movimentos corporais e percepção". (SILVA, 2010). Entre as várias formas de se trabalhar o desenvolvimento do esquema corporal da criança, devemos destacar a abrangência e a importância da:

- a) Diversão
- b) Música
- c) Brincadeira
- d) Leitura
- e) Aprendizagem

#### Questão 50

Jogos e brincadeiras podem parecer atividades sem fins pedagógicos, mas a recreação tem um papel fundamental na formação e no desenvolvimento das crianças na educação infantil. Podemos afirmar que

tais atividades são relevantes pois:

- a) Tornam-se uma ferramenta importante na adaptação à nova rotina, ao novo ambiente e às novas pessoas, permitindo que a escola relacione os seus objetivos com o interesse da criança.
- b) Mostram aos pais e responsáveis que a escola se preocupa com a diversão da criança.
- c) Ajudam a criança a entender que a escola é um ambiente de aprendizagem e não de brincadeiras.
- d) Permitem que as crianças brinquem livremente no ambiente escolar.
- e) Facilitam as atividades dos professores e cuidadores, uma vez que, enquanto brincam, as crianças assumem um comportamento menos agitado.