

**OPERADOR DE MÁQUINA - CATEGORIA I**

Nome do Candidato _____		Nº Inscrição _____	Nº Prova <b>3297</b>
Documento _____	Tipo <b>N</b>	Local _____	

**LEIA COM ATENÇÃO AS INSTRUÇÕES ABAIXO:**

- É proibido folhear o caderno de provas antes da autorização do fiscal.**
- É responsabilidade exclusiva do candidato à conferência de seus dados pessoais, em especial o nome, o número de inscrição, o número de seu documento de identidade, cargo de sua opção e a marcação do gabarito na sua Folha de Respostas. Quaisquer problemas deverão ser comunicados ao fiscal/chefe de sala, para registro em ata.
- Confira os dados impressos no cartão resposta e se este caderno de provas corresponde ao cargo (cabeçalho desta página) para o qual você se candidatou.
- Assine o cartão de respostas.**
- Verifique se este caderno de prova contém **50 questões**. Não serão consideradas reclamações posteriores ao término da prova.
- Cada questão da prova objetiva constitui-se de cinco alternativas, identificadas pelas letras A, B, C, D e E, das quais apenas uma será a resposta correta.
- Preencha o cartão de respostas da prova objetiva utilizando caneta esferográfica azul ou preta, preenchendo totalmente o campo de marcação, ao lado dos números, que corresponde à resposta correta.
- Serão consideradas incorretas questões para as quais o candidato tenha preenchido no cartão resposta mais de uma opção, bem como questões em que o campo de marcação apresente rasuras, emendas ou que não esteja preenchido integralmente.
- O cartão resposta será o único documento válido para a correção das provas objetivas e não será substituído em hipótese alguma; portanto, evite rasuras.
- Em sala, a comunicação entre os candidatos não será permitida, sob qualquer forma ou alegação.
- Não será permitido o uso de calculadoras, dicionários, telefones celulares, pen drive ou de qualquer outro recurso didático, elétrico ou eletrônico, nem o uso de qualquer acessório que cubra as orelhas do candidato.
- A prova objetiva terá duração máxima de 3 horas e 30 minutos**, incluído o tempo para preenchimento do cartão de respostas.
- O candidato somente poderá retirar-se do local de prova após 1 (uma) hora de seu início e poderá levar o caderno de provas 1 (uma) hora antes de seu término.
- Os (3) três últimos candidatos somente poderão retirar-se da sala de prova simultaneamente e devem fazê-lo após a assinatura da ata de sala.**
- As saídas para banheiro, tomar medicamento e água, só serão permitidas durante a realização das provas. Não será permitida a permanência de candidatos no local de realização das provas após o término e a entrega do cartão respostas, devendo o candidato retirar-se imediatamente do local, não sendo possível nem mesmo a utilização dos banheiros e bebedouros.
- Os fiscais **NÃO** estão autorizados a prestar informações de interpretação das questões. Sua função é apenas fiscalizar e orientar quanto ao funcionamento do certame.
- Ao concluir a prova, entregue ao fiscal de sala o cartão de respostas.

**Boa prova!**

01		02		03		04		05		06		07		08		09		10	
11		12		13		14		15		16		17		18		19		20	
21		22		23		24		25		26		27		28		29		30	
31		32		33		34		35		36		37		38		39		40	
41		42		43		44		45		46		47		48		49		50	



## RASCUNHO

**Língua Portuguesa****TEXTO 01**

O texto abaixo servirá de base para responder as questões de 01 a 03.

O conto da mentira

Todo dia Felipe inventava uma mentira. "Mãe, a vovó tá no telefone!". A mãe largava a louça na pia e corria até a sala. Encontrava o telefone mudo.

O garoto havia inventado morte do cachorro, nota dez em matemática, gol de cabeça em campeonato de rua. A mãe tentava assustá-lo: "Seu nariz vai ficar igual ao do Pinóquio!". Felipe ria na cara dela: "Quem tá mentindo é você! Não existe gente de madeira!".

O pai de Felipe também conversa com ele: "Um dia você contará uma verdade e ninguém acreditará!" Felipe ficava pensativo. Mas, no dia seguinte...

Então, aconteceu o que seu pai alertara. Felipe assistia a um programa na TV. A apresentadora ligou para o número do telefone da casa dele. Felipe tinha sido sorteado. O prêmio era uma bicicleta: "É verdade, mãe! A moça quer falar com você no telefone pra combinar a entrega da bicicleta. É verdade!".

A mãe de Felipe fingiu não ouvir. Continuou preparando o jantar em silêncio. Resultado: Felipe deixou de ganhar o prêmio. Então ele começou a reduzir suas mentiras. Até que um dia deixou de contá-las. Bem, Felipe cresceu e tornou-se um escritor. Voltou a criar histórias. Agora sem culpa e sem medo. No momento está escrevendo um conto. É a história de um menino que deixa de ganhar uma bicicleta porque mentia...

AUGUSTO, Rogério. FOLHA DE SÃO PAULO. São Paulo. Miniconto. Folhinha 14 jun. 2003. F8 C1 -1.

**Questão 01**

"Então, ele começou a **reduzir** suas mentiras". A palavra que pode substituir a que está em destaque no período é:

- a) Esticar.
- b) Aumentar.
- c) Expandir.
- d) Amplificar.
- e) Diminuir.

**Questão 02**

De acordo com o texto, o que motivou Felipe a reduzir suas mentiras?

- a) Quando o garoto inventou a morte do cachorro.
- b) Quando ele deixou de ganhar a bicicleta do programa de televisão.
- c) Quando o pai tentava conversar com ele.
- d) Quando sua mãe tentava assustá-lo.
- e) Quando assistia a um programa na TV.

**Questão 03**

"A mãe tentava assustá-**lo**." A palavra destacada refere-se a:

- a) Felipe.
- b) Cachorro.
- c) Pai.
- d) Pinóquio.
- e) Escritor.

**TEXTO 02**

O texto abaixo servirá de base para responder as questões de 04 a 05.

Leia um trecho do poema "O Amor Antigo!", de Carlos Drummond de Andrade.

"O antigo amor, porém, nunca fenece  
e a cada dia surge mais amante.

Mais ardente, mas pobre de esperança.  
Mais triste? Não. Ele venceu a dor,  
e resplandece no seu canto obscuro,  
tanto mais velho quanto mais amor."

Carlos Drummond de Andrade

**Questão 04**

No primeiro verso, a palavra **fenece** é antônima de:

- a) Transforma.
- b) Morre.
- c) Vive.
- d) Renasce.
- e) Assusta.

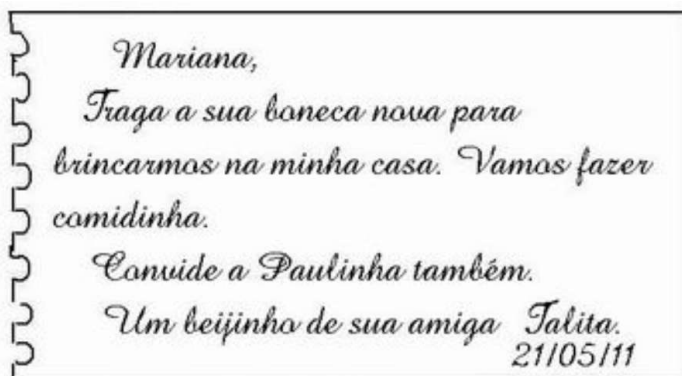
### Questão 05

A palavra porém, no primeiro verso, é acentuada, pois trata-se de uma:

- a) Dissílaba.
- b) Proparoxítona.
- c) Oxítona.
- d) Paroxítona.
- e) Monossílaba.

### TEXTO 03

O texto abaixo servirá de base para responder as questões de 06 a 07.



<http://portaldoprofessor.mec.gov.br/fichaTecnicaAula.html?aula=54741>

### Questão 06

11- Na oração "Traga a sua boneca nova...", o verbo destacado indica:

- a) Autorização.
- b) Distanciamento.
- c) Pedido.
- d) Afugentamento.
- e) Abdicação.

### Questão 07

A vírgula empregada após a palavra Mariana serve para indicar uma:

- a) Indicação.
- b) Orientação.
- c) Sugestão.
- d) Ordem.

e) Invocação.

### TEXTO 04

O texto abaixo servirá de base para responder as questões de 08 a 09.

A Carta

Esta história é de dois namorados, ele chamado Haroldo e ela, Marta. Os dois brigaram feio, e Marta escreveu uma carta para Haroldo, rompendo definitivamente o namoro e ainda dizendo uma verdade que ele precisava ouvir. Ou, no caso, ler. Mas Marta se arrependeu do que tinha escrito e no dia seguinte fez plantão na calçada em frente do edifício de Haroldo, esperando o carteiro. Precisava interceptar a carta de qualquer jeito. Quando o carteiro apareceu, Marta fingiu que estava chegando ao edifício e perguntou:

- Alguma coisa para o 702? Eu levo.

Mas não tinha nada para o 702. No dia seguinte tinha, mas não a carta de Marta. No terceiro dia, o carteiro desconfiou, hesitou em entregar a correspondência a Marta, que foi obrigada a fazer uma encenação dramática. Não era do 702. Era a autora de uma carta para o 702. E queria a carta de volta. Precisava daquela carta. Era importantíssimo ter aquela carta. Não podia dizer por quê. Afinal, a carta era dela mesma, devia ter o direito de recuperá-la quando quisesse! O carteiro disse que o que ela estava querendo fazer era crime federal, mas mesmo assim olhou os envelopes do 702 para ver se entre eles estava a carta. Não estava. No dia seguinte - quando Marta ficou sabendo que o carteiro se chamava Jessé e, apesar de tão jovem, já era viúvo, além de colorado - também não. No outro dia também não, e o carteiro convidou Marta para, quem sabe, um chope. Na manhã depois do chope, a carta ainda não tinha chegado e Marta e Jessé combinaram ir ver Titanic juntos. No dia seguinte - nem sinal da carta - Jessé perguntou se Marta não queria conhecer sua casa. Era uma casa pobre, morava com a mãe, mas, se ela não se importasse... Marta disse que ia pensar.

No dia seguinte, chegou a carta. Jessé deu a carta a Marta. Ela ficou olhando o envelope por um longo minuto. Depois a devolveu ao carteiro e disse:

- Entrega.

E, diante do espanto de Jessé, explicou que só queria ver se tinha posto o endereço certo.

Luis Fernando Verissimo

**Questão 08**

Classifique as afirmações abaixo, referentes ao primeiro parágrafo do texto, como verdadeiras (V) ou falsas (F):

( ) Essa é uma história de uma briga entre recém-casados.

( ) Haroldo e Marta tiveram uma discussão.

( ) Marta não se arrependeu do que tinha escrito para Haroldo.

A sequência correta é:

- a) F - F - V.
- b) V - V - V.
- c) V - F - V.
- d) F - F - F.
- e) F - V - F.

**Questão 09**

Assinale a alternativa cujo fato desencadeou o conflito dessa história:

- a) A encenação dramática feita por Marta.
- b) A carta escrita por Marta para seu namorado.
- c) A aparição do carteiro.
- d) O fingimento de Marta chegando ao edifício.
- e) O plantão que Marta fez na calçada em frente ao edifício de Haroldo.

**Questão 10**

Indique a alternativa em que todas as palavras foram acentuadas corretamente:

- a) Repórter / tórax / lâmpada.
- b) Próximo / tabú / rúim.
- c) Cálcio / magôa / dominó.
- d) Herói / vendêr / semênte.
- e) Sofá / infância / parabêns.

**Questão 11**

Assinale a opção cuja frase está pontuada corretamente:

- a) A gatinha parece, uma bola de neve.
- b) Vitória, a capital do Espírito Santo, é um belíssimo lugar.

- c) Mariana você vai à festa?
- d) Gosto: de comer maçã e banana.
- e) Quero sair de casa mas meu pai não deixa.

**Questão 12**

Marque a alternativa em que todas as palavras foram separadas corretamente:

- a) ar-re-pen-deu / qui-ses-se / in-ter-cep-tar
- b) e-di-fí-ci-o / im-por-tan-tís-si-mo / he-si-to-u
- c) cor-res-pon-dên-cia / car-te-i-ro / ex-pli-cou
- d) di-sse / de-vol-veu / Jes-sé
- e) vi-ú-vo / con-vi-do-u / que-ri-a

**Questão 13**

Todos os verbos a seguir encontram-se no modo indicativo. Analise-os e indique a alternativa correta em relação à classificação do tempo verbal a que se referem:

- I) inventava = Pretérito imperfeito.
  - II) é = Presente.
  - III) contará = Futuro do presente.
  - IV) aconteceu = Pretérito perfeito.
  - V) alertara = Pretérito mais-que-perfeito.
- a) Somente a I está correta.
  - b) As alternativas I, II, III, IV e V estão corretas.
  - c) III e V estão corretas.
  - d) I e IV estão corretas.
  - e) As alternativas I, II, III, IV e V estão incorretas.

**Questão 14**

Assinale a alternativa em que todas as palavras pertencem à classe gramatical dos substantivos:

- a) Eu - pensamento - serviço - bonito.
- b) Inteligente - bolsa - nossa - passarinho.
- c) Correr - aquele - menino - ajudar.
- d) Joaquina - mesa - Rio de Janeiro - táxi.
- e) Sílabas - meu - viveu - simpático.

**Questão 15**

Numere a 2ª coluna de acordo com a 1ª:

- (1) Sujeito simples
- (2) Sujeito composto
- (3) Sujeito Oculto/Desinencial

- (4) Sujeito indeterminado  
(5) Oração sem sujeito/Inexistente

- ( ) Vive-se bem neste lugar.  
( ) Choveu muito na região Sudeste.  
( ) João comprou um carro novo.  
( ) Fomos à praia no último fim de semana.  
( ) Carolina e Eliana são amigas.

Assinale a opção que possui a sequência correta:

- a) 3 - 2 - 1 - 5 - 4.  
b) 2 - 4 - 1 - 3 - 5.  
c) 4 - 5 - 3 - 2 - 1.  
d) 4 - 5 - 1 - 3 - 2.  
e) 1 - 2 - 5 - 4 - 3.

#### Questão 16

Assinale a alternativa que completa corretamente as lacunas das frases abaixo:

\_\_\_\_\_ pessoas no parque.  
\_\_\_\_\_ soluções para o problema.  
\_\_\_\_\_ muitos anos que não a vejo.

- a) Havia, Deveria haver, Faz.  
b) Haviam, Deveria haver, Farão.  
c) Havia, Deveriam haverem, Fazem.  
d) Haviam, Deveriam haver, Fazem.  
e) Há, Deveriam haver, Faziam.

#### Questão 17

Sobre a concordância nominal, aponte a alternativa em que há erro de concordância:

- a) Obrigada respondeu a garota ao rapaz.  
b) É proibida a entrada de pessoas estranhas neste lugar.  
c) Há bastantes pessoas nesta escola.  
d) Paciência é necessário.  
e) Estou meia cansada hoje.

#### Questão 18

Observe as orações abaixo:

- I) Os ladrões assaltaram o banco.  
II) Os cidadãos participaram do plebiscito.  
III) Os corações estão dilacerados.

Considerando o plural das palavras destacadas, pode-se afirmar:

- a) Somente a II está incorreta.  
b) I, II e III estão corretas.  
c) Apenas I e II estão corretas.  
d) Somente a III está correta.  
e) I, II e III estão incorretas.

#### Questão 19

Todas as palavras foram escritas corretamente, exceto a alternativa:

- a) Caxumba.  
b) Cerejeiras.  
c) Excessão.  
d) Jeito.  
e) Ressurreição.

#### Questão 20

Observe as frases abaixo e assinale que a única que é nominal:

- a) Que sopa deliciosa!  
b) A garota ficou nervosa com a situação.  
c) O ônibus chegou atrasado.  
d) Fui ontem ao parque.  
e) Hoje o dia está muito quente.

### Raciocínio Lógico/Matemática

#### Questão 21

O raciocínio lógico pertence a um ramo da matemática que consiste em estabelecer coerência (lógica) a uma argumentação. Portanto, se estabelecemos um grupo seus elementos devem seguir um mesmo padrão. Sendo assim, qual dos itens abaixo não faz parte deste grupo?

- a) Relógio.  
b) Camisa.  
c) Blusa.  
d) Bermuda.  
e) Calça.



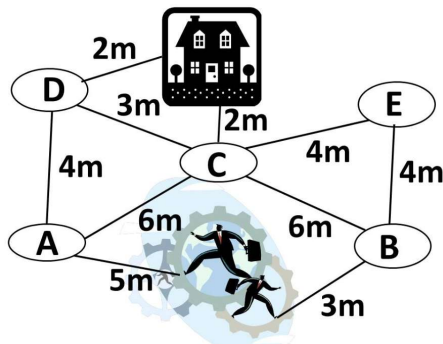
**Questão 22**

Mirian, Carla, Lucia, Maria e Joana foram ao supermercado. Mirian comprou 1,4kg de cenoura 2kg de feijão e 1,5kg de batata. Carla comprou 2kg de carne 1kg de farinha e 3,9kg de batata. Lucia comprou 2,3kg de abóbora, 1kg de feijão e 1,5kg de farinha. Maria comprou 1,5kg de feijão, 2,6kg de batata. Joana comprou 4,9kg de carne Quem fez a compra mais pesada?

- a) Joana.
- b) Carla.
- c) Lucia.
- d) Maria.
- e) Mirian.

**Questão 23**

A figura traz várias opções para os personagens chegarem a casa. Qual o caminho mais comprido?



- a) B---E---C---CASA
- b) A---C---CASA
- c) A---D---CASA
- d) A---D---C---CASA
- e) B---C---CASA

**Questão 24**

Os números (  $X - 1$  ;  $X$  ;  $X+1$  ) são consecutivos e sua soma é igual a 45. Quais são o antecessor e o sucessor de  $X$ ?

- a) 44 e 46
- b) 32 e 34
- c) 14 e 16
- d) 2 e 4
- e) 98 e 100

**Questão 25**

Quantos números pares e quantos ímpares podemos formar de 200 a 300, com os algarismos 0, 2 e 3?

- a) Três pares e dois ímpares
- b) Vinte pares e Trinta ímpares
- c) Trinta pares e vinte ímpares
- d) Três pares e três ímpares
- e) Dois pares e dois ímpares

**Questão 26**

Marcos foi medir um terreno para construir sua casa e como sabia que ele era quadrado mediu apenas um dos lados, que deu 16,3m. Em seu projeto, decidiu fazer uma área de lazer de 16,3m x 3m. Quantos metros quadrados (m<sup>2</sup>) restaram para projetar a obra da casa? (Área = lado x lado)

- a) 265,69
- b) 48,9
- c) 16,3
- d) 65,2
- e) 216,79

**Questão 27**

Regina, Lucia e Flávia foram a um restaurante, comeram uma porção de R\$ 36,00, dois refrigerantes cada uma de R\$ 3,00 cada e dividiram a conta em três partes iguais. Cada uma pagou:

- a) R\$ 18,00
- b) R\$ 12,00
- c) R\$ 20,00
- d) R\$ 16,00
- e) R\$ 15,00

**Questão 28**

Se Claudio é 65cm maior que Leila e ela é 50 cm menor que Flávio, que mede 1,72m. A altura de Claudio é:

- a) 1,65m
- b) 1,15m
- c) 1,87m
- d) 1,07m
- e) 1,22m

### Questão 29

Silas está treinando para uma maratona e alcançou a marca de 2km a cada 15min. Em quantas horas ele fará o percurso de 24km?

- a) 24 horas
- b) 15 horas
- c) 12 horas
- d) 3 horas
- e) 18 horas

### Questão 30

Ana juntou em seu cofre R\$ 239,20 e com esse dinheiro resolveu comprar uma calça. Ao chegar à loja, gostou de uma calça que custava R\$ 260,00. Por não ter todo o dinheiro, insistiu com o vendedor que lhe desse um desconto suficiente para comprá-la e ele acabou aceitando. Qual a porcentagem do desconto dado?

- a) 8%
- b) 15%
- c) 20%
- d) 5%
- e) 12%

### Questão 31

Qual o próximo número da sequência (8; 6; 5; 4,5; ... )?

- a) 4,25
- b) 3
- c) 3,5
- d) 5
- e) 5,5

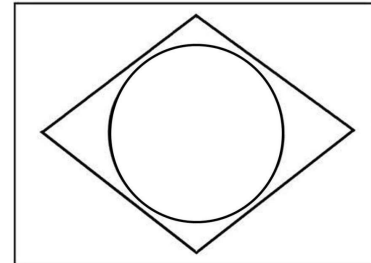
### Questão 32

João tem três filhos. O mais velho tem o triplo e o do meio tem o dobro da idade do mais novo. Se a soma das idades dos três é igual a 72, as idades deles são:

- a) 18 anos, 36 anos e 72 anos.
- b) 12 anos, 24 anos e 36 anos.
- c) 10 anos, 20 anos e 30 anos.
- d) 12 anos, 20 anos e 30 anos.
- e) 14 anos, 28 anos e 42 anos.

### Questão 33

A bandeira do Brasil é formada por três figuras geométricas muito bem definidas e muito conhecidas. São elas:



- a) O retângulo, o losango e o círculo.
- b) O quadrado, o balão e o círculo.
- c) O retângulo, o balão e o círculo.
- d) O quadrado, o losango e o círculo.
- e) O retângulo, o balão e a bola.

### Questão 34

Nas opções abaixo temos os nomes de algumas figuras geométricas. Por uma análise lógica, qual delas não pertence ao grupo?

- a) Círculo.
- b) Trapézio.
- c) Retângulo.
- d) Cubo.
- e) Triângulo.

### Questão 35

Na teoria matemática ao se agrupar elementos como números, objetos ou mesmo pessoas por características (cor dos olhos, cabelo, etc), estamos formando o que é chamado de:

- a) Grupo.
- b) Emaranhado.
- c) Mistura.
- d) Agrupamento.
- e) Conjunto.



**Conhecimentos Gerais****Questão 36**

Entender-se como um indivíduo membro de uma sociedade integrante de um Estado, conhecer seus direitos e participar ativamente de todo tipo de ação que vise a busca de condições de vida justas e igualitárias para toda a sociedade é exercer sua:

- a) Simpatia.
- b) Soberania.
- c) Cidadania.
- d) Empatia.
- e) Autonomia.

**Questão 37**

O sonho de "ganhar a vida" no exterior faz com que muitas pessoas e até mesmo famílias inteiras deixem o lugar onde moram para viajarem, principalmente para os Estados Unidos da América. O problema é que muitas destas pessoas se arriscam a entrar ilegalmente e quando conseguem vivem sob o medo de serem pegos pela polícia local. Recentemente os EUA enviaram de volta para o nosso país uma quantidade considerável de brasileiros que nesta condição são chamados de:

- a) Deportados.
- b) Importados.
- c) Recondicionados.
- d) Exportados.
- e) Exonerados.

**Questão 38**

Segundo a coluna "Questões de Família" do site gazetaonline, de janeiro a novembro de 2019 o estado do Espírito Santo registrou 29 casos de feminicídio e em todo o ano mais de 14 mil registros de violências contra \_\_\_\_\_. Infelizmente, estas ocorrências têm sido cada vez mais frequentes no estado e em todo o país.

Assinale a alternativa que completa corretamente a lacuna no texto:

- a) a mulher
- b) os idosos
- c) os homens

- d) a criança
- e) as feministas

**Questão 39**

As ações baseadas em normas de conduta que devem ser cumpridas por um profissional no exercício de sua profissão, visando o bem estar comum, o respeito nas relações interpessoais e o cumprimento efetivo de suas atribuições chamamos de:

- a) Ética no trabalho.
- b) Dedicção.
- c) Cooperação.
- d) Profissionalismo.
- e) Responsabilidade.

**Questão 40**

A história de Fundão se confunde com a de um município que ainda hoje está estreitamente ligado a ele. Tudo começou com a criação da Aldeia dos Reis Magos, que depois se tornou vila e, posteriormente, município. Com a construção da Estrada de Ferro Vitória a Minas no interior, surgiu o vilarejo de Fundão que cresceu aos poucos, recebendo famílias italianas que vinham de outras localidades e também diretamente da Itália. Em 1923 sua emancipação política foi decretada e Fundão deixou de pertencer ao município de:

- a) Aracruz.
- b) Nova Almeida.
- c) Serra.
- d) Ibiraçu.
- e) Santa Teresa.

**Questão 41**

O município de Fundão é privilegiado em termos econômicos, pois sua localização entre a área rural e a praiana, passando pela sede às margens da BR 101, permite a exploração comercial e também turística. De acordo com informações obtidas no site de sua prefeitura, este município possui três distritos. O distrito que abrange a região litorânea é:

- a) Praia Grande.
- b) Timbuí
- c) Pendanga.

- d) Irundi
- e) Sede.

**Questão 42**

"Homenageando os padroeiros, São Benedito e São Sebastião os festejos que acontecem ao longo do litoral capixaba mantêm firme a tradição e a memória da comunidade fundoense." fonte: [www.folhavoria.com.br](http://www.folhavoria.com.br)

Este movimento cultural que envolve religião, música e dança, faz parte da história de todo o estado, mas ganha especial atenção em alguns municípios, como por exemplo, o de Fundão. Estamos falando:

- a) Do congo.
- b) Da capoeira.
- c) Do carnaval.
- d) Da quadrilha.
- e) Do forró.

**Questão 43**

Além das muitas belezas naturais existentes em nosso planeta, a criatividade e o talento humano faz várias contribuições com a construção que podem ser chamadas de obras de arte. A exemplo dos gregos que elegeram as sete maravilhas do mundo antigo, em 7 de julho de 2007 foram anunciadas as 7 maravilhas do mundo moderno. A Grande Muralha da China, o Taj Mahal na Índia, Machu Picchu no Peru, Chichén Itzá no México, o Coliseu na Itália e a contribuição do Brasil foi com:

- a) O Cristo Redentor.
- b) O Convento da Penha.
- c) O Teatro Amazonas.
- d) A Estação da Luz.
- e) A Igreja da Pampulha.

**Questão 44**

Recentemente o Espírito Santo sofreu com uma tragédia sem precedentes, por causa das fortes chuvas que caíram no estado destruindo cidades quase que inteiras, causando mortes, mas também mostrando a força, a solidariedade e a união do povo capixaba. De acordo com o que foi amplamente divulgada nas mídias estadual e nacional, a região do Espírito Santo que foi mais prejudicada nesta ocasião foi à região:

- a) Centro-oeste.
- b) Nordeste.
- c) Sudeste.
- d) Sul.
- e) Norte.

**Questão 45**

O distrito de Irundi abriga um presente da natureza que encanta fundoenses, capixabas e quem mais for visitá-lo. A mais de 840 metros de altitude, localizado na divisa dos municípios de Fundão e Santa Teresa, no pico do \_\_\_\_\_ é possível avistar vários municípios e parte do litoral entre Grande Vitória e Linhares. O nome que completa corretamente a lacuna do texto é:

- a) Piraquê-Açu.
- b) Goiapaba-Açu.
- c) Sauaçu.
- d) Itaguaçu.
- e) Ibiracu.

**Questão 46**

O site da prefeitura de Fundão traz uma importante lição sobre a preservação do meio ambiente. Ao divulgar ações realizadas no litoral, orienta os frequentadores a preservar a vegetação que margeia toda a praia e ressalta seu papel na transição da orla com a mata atlântica. Esta vegetação é chamada de:

- a) Mangue.
- b) Campinarana.
- c) Restinga.
- d) Caatinga.
- e) Cerrado.

**Questão 47**

Fundão é uma cidade cuja sede se situa às margens do rio \_\_\_\_\_, conhecido também como rio Fundão devido à sua profundidade, dando nome à cidade. <http://www.fundao.es.gov.br>

Assinale a alternativa que completa corretamente a lacuna do texto:

- a) Santa Maria.
- b) Piraqueçu.

- c) Benevente.
- d) Reis Magos.
- e) Cricaré.

**Questão 48**

O mundo está se mobilizando para combater um novo vírus. Mais uma vez uma doença misteriosa assusta toda população, mata pessoas e faz com que pesquisadores do mundo inteiro se dediquem incansavelmente à busca por uma vacina. Os sintomas são semelhantes ao de uma gripe e evoluem para uma pneumonia. Este vírus é:

- a) Vírus do sarampo.
- b) Rotavírus.
- c) Coronavírus.
- d) H1N1.
- e) Zika vírus.

**Questão 49**

Muitas pessoas acreditam que Direitos Humanos é uma entidade responsável por oferecer suporte, ou algum tipo de proteção indevida para determinados grupos de indivíduos, mas isto não é verdade. O conceito de Direitos Humanos está muito distante daquilo que muitos chamam de privilégios. Os itens abaixo descrevem alguns mitos e algumas verdades sobre este tema. Leia atentamente e em seguida marque a alternativa que corresponde aos itens que citam as verdades.

I. Os Direitos Humanos abrangem um conjunto de aspectos básicos da vida humana que devem ser respeitados e garantidos.

II. Apesar de não privilegiar apenas indivíduos de um grupo específico os direitos humanos não são universais.

III. Direitos Humanos é uma Organização Não Governamental (ONG) que se dispõe a atender indivíduos que busquem seu apoio.

IV. Alegações baseadas na Declaração Universal dos Direitos Humanos servem para evitar ações violentas e injustas.

Assinale a alternativa CORRETA.

- a) I, III e IV correspondem à verdade.
- b) I e IV correspondem à verdade.

- c) I e III correspondem à verdade.
- d) II e IV correspondem à verdade.
- e) II, III e IV correspondem à verdade

**Questão 50**

Entender a sociedade como um lugar onde "o seu direito termina onde começa o do outro" engloba valores que conceituam ações de respeito, devendo ser entendidas e aplicadas em qualquer ambiente, inclusive no trabalho. Esta descrição nos dá a noção de princípios:

- a) Trabalhistas.
- b) Éticos.
- c) Filosóficos.
- d) Educacionais.
- e) Sociais.