

**FISCAL DE VIGILÂNCIA SANITÁRIA**

Nome do Candidato _____		Nº Inscrição _____	Nº Prova <b>3284</b>
Documento _____	Tipo <b>N</b>	Local _____	

**LEIA COM ATENÇÃO AS INSTRUÇÕES ABAIXO:**

- É proibido folhear o caderno de provas antes da autorização do fiscal.**
- É responsabilidade exclusiva do candidato à conferência de seus dados pessoais, em especial o nome, o número de inscrição, o número de seu documento de identidade, cargo de sua opção e a marcação do gabarito na sua Folha de Respostas. Quaisquer problemas deverão ser comunicados ao fiscal/chefe de sala, para registro em ata.
- Confira os dados impressos no cartão resposta e se este caderno de provas corresponde ao cargo (cabeçalho desta página) para o qual você se candidatou.
- Assine o cartão de respostas.**
- Verifique se este caderno de prova contém **50 questões**. Não serão consideradas reclamações posteriores ao término da prova.
- Cada questão da prova objetiva constitui-se de cinco alternativas, identificadas pelas letras A, B, C, D e E, das quais apenas uma será a resposta correta.
- Preencha o cartão de respostas da prova objetiva utilizando caneta esferográfica azul ou preta, preenchendo totalmente o campo de marcação, ao lado dos números, que corresponde à resposta correta.
- Serão consideradas incorretas questões para as quais o candidato tenha preenchido no cartão resposta mais de uma opção, bem como questões em que o campo de marcação apresente rasuras, emendas ou que não esteja preenchido integralmente.
- O cartão resposta será o único documento válido para a correção das provas objetivas e não será substituído em hipótese alguma; portanto, evite rasuras.
- Em sala, a comunicação entre os candidatos não será permitida, sob qualquer forma ou alegação.
- Não será permitido o uso de calculadoras, dicionários, telefones celulares, pen drive ou de qualquer outro recurso didático, elétrico ou eletrônico, nem o uso de qualquer acessório que cubra as orelhas do candidato.
- A prova objetiva terá duração máxima de 3 horas e 30 minutos**, incluído o tempo para preenchimento do cartão de respostas.
- O candidato somente poderá retirar-se do local de prova após 1 (uma) hora de seu início e poderá levar o caderno de provas 1 (uma) hora antes de seu término.
- Os (3) três últimos candidatos somente poderão retirar-se da sala de prova simultaneamente e devem fazê-lo após a assinatura da ata de sala.**
- As saídas para banheiro, tomar medicamento e água, só serão permitidas durante a realização das provas. Não será permitida a permanência de candidatos no local de realização das provas após o término e a entrega do cartão respostas, devendo o candidato retirar-se imediatamente do local, não sendo possível nem mesmo a utilização dos banheiros e bebedouros.
- Os fiscais **NÃO** estão autorizados a prestar informações de interpretação das questões. Sua função é apenas fiscalizar e orientar quanto ao funcionamento do certame.
- Ao concluir a prova, entregue ao fiscal de sala o cartão de respostas.

**Boa prova!**

01		02		03		04		05		06		07		08		09		10	
11		12		13		14		15		16		17		18		19		20	
21		22		23		24		25		26		27		28		29		30	
31		32		33		34		35		36		37		38		39		40	
41		42		43		44		45		46		47		48		49		50	



## RASCUNHO

**Língua Portuguesa****TEXTO 01**

*O texto abaixo servirá de base para responder as questões de 01 a 05.*

O lixo nosso de cada dia

Após o feriado de São Sebastião, dia 20 de janeiro, a Comlurb recolheu 40 toneladas de lixo das areias da Praia de Copacabana. Os resíduos ficaram expostos para chamar a atenção da população. No início do ano, a queima de fogos nas praias do Rio durante os festejos do Réveillon resultou em 700 toneladas de lixo na orla carioca. [...] Mais um retrato do mau hábito de descartar lixo em local impróprio, ainda tão inserido na população, e de suas consequências para as finanças municipais e para o ambiente. [...]

É equivocado o pensamento de que limpeza urbana é um problema unicamente do poder público. Em muitos países, a população já compreendeu que o descarte e o tratamento do lixo também são de responsabilidade de quem o produz. Garantir que ele chegue ao destino adequado é uma questão de cidadania e respeito ao futuro.

Em Tóquio, por exemplo, não existe a necessidade de instalação de lixeiras nas ruas. Os moradores entendem que possuem a obrigação de levar o lixo para casa e separá-lo para a coleta seletiva. [...]

Já em terras cariocas, mais de 1,2 milhão de toneladas de lixo é recolhido por ano nas ruas da cidade, mais do que o dobro do que é lançado nas vias de países desenvolvidos, segundo dados da própria prefeitura. O grande impacto da sujeira para o orçamento fez com que a poder municipal chegasse a uma atitude extrema: a de multar aqueles que jogarem lixo nas ruas.

A medida [...] é eficiente, mas precisa ser aliada a campanhas de conscientização. [...] É preciso despertar o interesse em viver em um ambiente mais limpo e saudável, e a consciência de que é necessário cumprir nossos deveres de cidadão, como descartar o lixo corretamente. [...]

Fonte (adaptada):  
<https://oglobo.globo.com/opiniaio/o-lixo-nosso-de-cada-dia-11445133>

**Questão 01**

Os colchetes foram usados no texto para:

a) Apontar a mudança de interlocutor em um diálogo.

- b) Formular perguntas diretas.  
c) Indicar omissões de partes na transcrição de um texto.  
d) Mostrar a citação de alguém.  
e) Fazer uma citação ou introduzir uma fala.

**Questão 02**

No período "Os resíduos ficaram expostos para chamar a atenção da população." O sujeito destacado classifica-se como:

- a) Indeterminado.  
b) Oculto/Elíptico  
c) Composto.  
d) Não há sujeito.  
e) Simples.

**Questão 03**

"A medida [...] é eficiente". A palavra que pode substituir a que está em destaque no período é:

- a) Inconveniente.  
b) Equivocada.  
c) Distinta.  
d) Eficaz.  
e) Garbosa.

**Questão 04**

Sobre o texto, leia as afirmativas a seguir:

- I. O problema do descarte inadequado do lixo nas praias brasileiras é o assunto principal do texto.  
II. A limpeza urbana é um problema unicamente do poder público.  
III. No Rio de Janeiro, os moradores separam o lixo para a coleta seletiva.

Está correto o que se afirma em:

- a) a) I.  
b) b) II e III.  
c) e) I e III.  
d) d) II.  
e) c) I e II.

**Questão 05**

Em "Os moradores entendem que possuem a obrigação de levar o lixo para casa e separá-lo para

a coleta seletiva". [...] A conjunção em destaque pode ser classificada como coordenativa:

- a) Conclusiva.
- b) Adversativa.
- c) Alternativa.
- d) Aditiva.
- e) Explicativa.

## TEXTO 02

O texto abaixo servirá de base para responder as questões de 06 a 09.

### Avião X Vapor

A minha avó, dona Fernanda, [...] formou um grupo super grande de amigas que trabalhavam muito [...].

Adoravam viajar juntas para estações termais, como Lindoia, São Pedro, etc. [...].

Naquele ano programaram uma viagem para a Itália, em pleno verão Europeu.

Quando suas amigas a convidaram e a nossa família insistiu para que fosse, ela descartou logo de cara "Não vou" [...]. Dizia. "Só gosto de vapor". [...]

"Tenho pavor de avião".

As amigas não se conformaram: "mas, Nanda, você gosta tanto de viajar, gosta da nossa companhia", "Gosto, mas de avião não vou". "Mas você foi tantas vezes para a Itália". "Fui, mas de vapor. De avião não vou".

[...] Insistimos, para ela ir. "Mas Nona, vamos pedir para o seu médico receitar um comprimido, você vai dormir a viagem toda".

Ela ficou desconfiada e perguntou se era muito forte esse remédio. Seu médico acalmou a Nona e, com um pouco de convencimento por parte dos filhos e das amigas, resolveu ir. Quando ia entrar no avião tomou o comprimido. Sentou no seu lugar e apagou. Quando acordou já estava na Itália.

Gostou tanto que disse: - "Agora só viajo de avião". [...]

Fonte (adaptada) : <http://literalmentelivres.com.br/aviao-x-vapor/>

### Questão 06

O trecho que apresenta uma relação de causa e consequência é:

- a) "... tomou o comprimido. Sentou no seu lugar e apagou."

- b) "As amigas não se conformaram...".
- c) "Adoravam viajar juntas para estações termais,...".
- d) "...formou um grupo super grande de amigas que trabalhavam muito...".
- e) "Naquele ano programaram uma viagem para a Itália, ...".

### Questão 07

"Tenho pavor de avião". O antônimo da palavra em destaque é:

- a) Nojo.
- b) Fascínio.
- c) Medo.
- d) Horror.
- e) Aversão.

### Questão 08

Sobre o texto, classifique as afirmações abaixo como verdadeiras (V) ou falsas (F):

- ( ) Dona Fernanda não tinha medo de fazer viagens de avião.
- ( ) Dona Fernanda e suas amigas adoravam viajar juntas.
- ( ) Dona Fernanda dormiu a viagem toda.

A sequência correta é:

- a) F - V - V.
- b) F - V - F.
- c) F - F - F.
- d) V - V - V.
- e) V - V - F.

### Questão 09

Em "A minha avó, dona Fernanda, [...]", o termo destacado é:

- a) Adjunto Adverbial.
- b) Objeto Direto.
- c) Aposto.
- d) Objeto Indireto.
- e) Vocativo.

### Questão 10

Assinale a alternativa em que há desvio em relação à presença do acento indicativo de crase:

- a) Quero ir à praia no fim de semana.
- b) Andamos à cavalo no haras do meu tio.
- c) Às vezes, me dá um aperto no coração.
- d) Fui à Bahia visitar meus parentes.
- e) Cheguei à escola às 7h15min.

### Questão 11

Indique a alternativa em que não há erro de concordância:

- a) Deve existir erros nos documentos exigidos pela direção.
- b) Podem haver erros nos documentos exigidos pela direção.
- c) Pode existir erros nos documentos exigidos pela direção.
- d) Pode haver erros nos documentos exigidos pela direção.
- e) Devem haver erros nos documentos exigidos pela direção.

### Questão 12

Assinale a opção que em há erro de regência verbal:

- a) Meu esposo quer assistir ao jogo hoje à noite.
- b) Contratei um professor particular para assistir ao meu filho.
- c) Quero assistir ao filme que está em cartaz.
- d) A prefeitura tem um programa que assiste os menores abandonados.
- e) O médico assistiu o doente no corredor.

### Questão 13

Assinale a opção em que todas as palavras são paroxítonas:

- a) Mesa, sótão, cidade.
- b) Patético, jacaré, bíceps.
- c) Glúten, café, árvore.
- d) Matemática, dúvida, felicidade.
- e) Saci, geladeira, próximo.

### Questão 14

Observe as frases abaixo:

1. Preciso corrigir o e-mail que enviei.
2. Meu pai já quer ligar a churrasqueira.
3. O marido da minha amiga é um homem educado.

4. O trânsito está intenso na Marginal Tietê.

5. Um dos acusados denunciou o companheiro de lavagem de dinheiro.

Os vocábulos grifados equivalem respectivamente a:

- a) retificar, acender, cavalheiro, tráfico, delatou.
- b) ratificar, acender, cavalheiro, tráfico, delatou.
- c) ratificar, ascender, cavaleiro, tráfico, dilatou.
- d) retificar, ascender, cavaleiro, tráfico, dilatou.
- e) ratificar, ascender, cavalheiro, tráfico, delatou.

### Questão 15

Observe as figuras de linguagem das frases abaixo e assinale a alternativa que as classifica, respectivamente, de forma correta:

- I- Suba para cima, meu filho!
- II- Chutei o pé da cama sem querer.
- III- Meu avô gosta de ler Carlos Drummond de Andrade.

- a) Catacrese, Metonímia, Metáfora.
- b) Prosopopeia, Metáfora, Metonímia.
- c) Metáfora, Prosopopeia, Pleonasma.
- d) Pleonasma, Catacrese, Metonímia.
- e) Metonímia, Prosopopeia, Catacrese.

## Raciocínio Lógico/Matemática

### Questão 16

Marília fez um investimento, a juros simples de 1,5% ao mês durante 2 anos e no final deste período recebeu a quantia de R\$ 10880,00. O capital investido foi:

- a) R\$ 8288,00
- b) R\$ 8000,00
- c) R\$ 10000,00
- d) R\$ 2880,00
- e) R\$ 5120,00

### Questão 17

Um processo seletivo realizado para contratar duas pessoas que trabalharão juntas no projeto de uma startup teve oito inscritos. Para avaliar o nível de interação entre os candidatos foi preciso combinar, de todas as formas possíveis, os oito candidatos de

dois em dois. Qual o total de duplas formadas?

- a) 28 duplas.
- b) 4 duplas.
- c) 16 duplas.
- d) 2 duplas.
- e) 8 duplas.

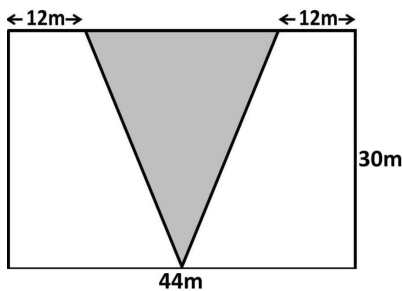
**Questão 18**

Uma escola tem duas turmas de 3ª série do ensino médio. A turma 1 tem 36 alunos e a turma 2 tem 30. A professora de Sociologia vai promover um trabalho de interação formando grupos mistos. Qual é a maior quantidade de grupos, com o mesmo número de participantes, que é possível formar?

- a) 10 grupos.
- b) 6 grupos.
- c) 5 grupos.
- d) 15 grupos.
- e) 11 grupos.

**Questão 19**

A figura abaixo representa um terreno onde será feita uma praça triangular, formando uma bifurcação e dando origem a duas ruas. Sabendo que a praça esta centralizada, a área que restará em cada lado para a construção das ruas será de:



- a) 600m<sup>2</sup>.
- b) 1020m<sup>2</sup>.
- c) 1320m<sup>2</sup>.
- d) 510m<sup>2</sup>.
- e) 300m<sup>2</sup>.

**Questão 20**

Qual dos gráficos abaixo representa uma função exponencial?

- a)
- b)
- c)
- d)
- e)

**Questão 21**

O senhor José, dono de uma padaria decidiu fazer uma pesquisa para avaliar a preferência de seus clientes entre os cinco tipos de bolo mais vendidos e montou uma tabela. Analisando a tabela podemos afirmar que:

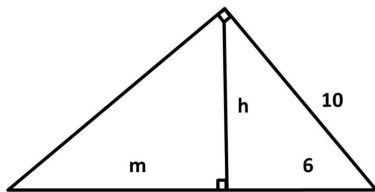
TIPO DE BOLO	CLIENTES
CHOCOLATE	118
FUBÁ	95
AIPIM	64
BANANA	126
CAÇAROLA	52

- a) A moda é 52.
- b) A amplitude é 74.
- c) A mediana é 118.
- d) A média aritmética simples é 102.
- e) A média aritmética ponderada é 27.

**Questão 22**

O Teorema de Pitágoras parece uma equação simples, mas tudo que é produzido por gênios como ele pode ser muito mais complexo do que parece. Neste caso existem variações que formam um grupo de equações chamado de "relações métricas no triângulo retângulo". Uma delas é a relação ( $h^2 = m.n$ ). Usando estas informações encontraremos para m um valor de, aproximadamente:





- a) 0,1066 cm.
- b) 1066 cm.
- c) 106,6 cm.
- d) 10,66 cm.
- e) 1,066 cm.

**Questão 23**

Paulo e seus ajudantes constroem um muro de 15 metros de comprimento em 10 dias. Quantos dias serão necessários para que eles construam um muro de 33 metros?

- a) 22 dias.
- b) 44 dias.
- c) 30 dias.
- d) 32 dias.
- e) 20 dias.

**Questão 24**

O "Problema de Einstein" é um desafio de lógica muito conhecido. Alguns são muito difíceis, mas este você vai resolver com facilidade. Resolva e escolha a opção que corresponde à resposta correta.

Três carros estão enfileirados no estacionamento de um shopping. Um preto, um azul e um branco.

- O carro de Carlos está à direita do carro branco;
- Lúcio é dono do carro azul;
- O carro de Marcos é o do meio.

Indique qual é a cor e o nome do dono de cada carro.

	CARRO 1	CARRO 2	CARRO 3
COR			
DONO			

- a) O carro 1 é de Lúcio e é branco, o carro 2 é de Marcos e é azul e o carro 3 é de Carlos e é preto.
- b) O carro 1 é de Marcos e é branco, o carro 2 é de Lúcio e é azul e o carro 3 é de Carlos e é preto.
- c) O carro 1 é de Lúcio e é azul, o carro 2 é de Marcos e é branco e o carro 3 é de Carlos e é preto.
- d) O carro 1 é de Marcos e é azul, o carro 2 é de Carlos e é preto e o carro 3 é de Lúcio e é branco.
- e) O carro 1 é de Carlos e é preto, o carro 2 é de Marcos e é branco e o carro 3 é de Lúcio e é azul.

**Questão 25**

Para ensinar seu filho Lucas a economizar, Luiz que é dono de uma loja de roupas, lhe deu um cofre com R\$ 100,00 e fez a seguinte proposta. Todo mês Lucas deve depositar no cofre 2% do que ganhar de comissão sobre o que vende ajudando seu pai na loja. Assim, o acumulado das economias de Lucas todo mês obedece a função:

- a)  $f(X) = 100 + 0,2X$
- b)  $f(X) = 100 + X/2$
- c)  $f(X) = 100 + 0,02X$
- d)  $f(X) = 2/100 + X$
- e)  $f(X) = 100 + 2X$

**Noções de Informática**

**Questão 26**

Um comando no teclado muito útil no agiliza no desenvolvimento de um texto no Microsoft Word 2007 para **iniciar uma nova página no mesmo documento** sem ter de teclar ENTER sozinha várias vezes até o final da página, é exatamente a combinação das teclas:

- a) CTRL + X
- b) CTRL + I
- c) CTRL + P
- d) CTRL + ENTER
- e) CTRL + E

**Questão 27**

Dada a tabela abaixo siga as orientações seguintes:

	A	B	C	D	E	F	G	H
	NOME	1º VALOR	2º VALOR	3º VALOR	4º VALOR	5º VALOR	6º VALOR	TOTAL
1	Carlos	4	8	7	1	5	9	
2	Magno	5	9	5	4	7	4	
3	Marcos	6	10	7	3	3	5	
4	Valéria	7	7	7	5	2	3	
5	Ana	1	4	5	6	8	9	

O usuário do Microsoft Excel 2007 quer saber a SOMA dos valores referente a pessoa MARCOS considerando os valores das colunas (2º Valor e 6º Valor) qual a fórmula mais ADEQUADA e CORRETA para fazer esse cálculo sabendo que esses valores podem ser atualizados no futuro, na célula H4 da coluna TOTAL:

- a) =SOMA(MARCOS(2º VALOR + 6º VALOR)
- b) =SOMA(10/5)
- c) =SOMA(C4\*G4)
- d) =SOMA(C4:G4)
- e) =SOMA(C4;G4)


### Questão 28

No Editor de texto Word do Microsoft Office 2007 tem uma ferramenta muito útil para formatação avançada representado pelo ¶, ela fica localizada na barra de ferramentas Início na versão do Word 2007 e seu nome e finalidade num documento é exatamente:

- a) Formatação Condicional: criar através dessa ferramenta formatação condicional no texto.
- b) Mostrar Tudo: mostra marcas de parágrafo e outros símbolos de formatação ocultos.
- c) Parágrafo: indicar a quantidade em números de parágrafos no documento.
- d) Pi : atalho para indicar o valor de pi 3,14 no documento.
- e) Novo parágrafo: criar novo parágrafo no documento.

### Questão 29

No Microsoft Excel 2007 existe uma ferramenta na barra de ferramentas Início que é representada pela imagem:



Sua finalidade no Microsoft Excel 2007 é exatamente:

- a) Permitir que várias pessoas trabalhem em um pasta de trabalho ao mesmo tempo.
- b) Realçar as células de seu interesse, enfatizar valores incomuns e visualizar dados usando Barras de Dados, Escalas de Cor e Conjuntos de Ícones, baseado em critérios específicos.
- c) Formatar rapidamente um intervalo de células e convertê-lo em tabela, escolhendo um estilo de tabela predefinido.
- d) Impedir que dados inválidos sejam digitalizados em uma célula. Por exemplo, você pode rejeitar as datas ou os números inválidos maiores que 1000.
- e) Iniciar a caixa de diálogo classificar para classificar os dados com base em vários critérios ao mesmo tempo.

### Questão 30

No Word 2007 o usuário necessita colocar um espaçamento de 1,5 entre as linhas em um texto de um documento, na barra de ferramentas Início ele deverá clicar para indicar antes de iniciar ou depois selecionando o texto que deseja configurar deverá clicar em qual opção:

- a) Espaçamento entre linhas
- b) Alterar Estilos
- c) Lista de vários níveis
- d) Marcadores
- e) Aumentar recuo

## Conhecimentos Gerais

### Questão 31

Em reportagem de 11/02/2020 o site a gazeta informa que o Espírito Santo fará parte de uma comissão, junto com outro cinco estados, para tentar formular um acordo sobre a distribuição dos royalties de petróleo. Hoje os entes produtores recebem um valor maior que os outros, mas um processo no STF



vai determinar a distribuição igualitária os recursos provenientes da exploração do pré-sal. Mas o que é royalties?

- a) É uma quantia que é paga por alguém ao proprietário pelo direito de usar, explorar ou comercializar um produto, obra, terreno, etc.
- b) É uma indenização paga a todas as famílias que reside na região onde é feita a exploração de algum produto.
- c) É o valor pago pela compra de um produto, seja ele qual for.
- d) É um imposto que o estado onde há exploração do pré-sal paga ao governo federal.
- e) É um imposto pago sobre a exportação de um produto.

### Questão 32

Com logística privilegiada, o município de Fundão se beneficia no sentido de que o escoamento da produção agrícola é facilitado, incentivando e beneficiando os produtores e aquecendo a economia local. Todos estes benefícios só são possíveis porque por este município passam:

- a) A BR-262 e a rodovia Vitória a Minas.
- b) A BR-262 e a BR-101.
- c) A BR-101 e a ferrovia Vitória a Minas.
- d) A BR-262 e a Ferrovia Vitória a Minas.
- e) A BR-101 e a rodovia Vitória a Minas.

### Questão 33

O Art. 71 da Lei Orgânica do município de Fundão diz que: São estáveis, após (\_\_\_\_\_) de efetivo exercício, os servidores nomeados em virtude de concurso público.

- a) Três meses.
- b) Dois anos.
- c) Um ano.
- d) Três anos.
- e) Cinco anos.

### Questão 34

De acordo com a Lei 804/1993 que institui o Regime Jurídico Único para os servidores de Fundão, **NÃO** consta entre os requisitos básicos para ingresso no serviço público:

- a) A quitação com as obrigações militares e eleitorais.
- b) A nacionalidade brasileira.
- c) Boa saúde física e mental comprovada em inspeção médica oficial.
- d) O atendimento às condições especiais previstas em lei para determinados cargos.
- e) A idade mínima de dezesseis anos.

### Questão 35

"O que eu vejo é as pessoas não conhecerem, ou acharem que essas doenças não existem, que são coisas do passado e o vírus está aí circulando. A gente tem que alertar que essa negligência, esse esquecimento, essa falta de cumprir uma caderneta de vacinação, o preço pode ser a vida dessa criança", alertou o ministro da Saúde, Luiz Henrique Mandetta.

O Ministério da saúde lançou no dia 10 de fevereiro mais uma campanha de vacinação, e no texto acima o ministro atenta para a importância de se levar a sério as ações de prevenção. Desta vez a campanha é para vacinar crianças e jovens de 5 a 19 anos contra:

- a) A dengue.
- b) O sarampo.
- c) A febre amarela.
- d) A malária.
- e) O coronavírus.

### Questão 36

A televisão pública britânica BBC anunciou, nesta segunda-feira (10/02/2020), que produzirá uma série de documentários com a participação da \_\_\_\_\_ Greta Thunberg, que falará sobre sua vida e explorará as descobertas dos cientistas. A iniciativa é uma excelente notícia, pois ajudará a divulgar em todo o mundo o trabalho desta jovem menina que luta por uma causa de interesse de todos.

Assinale a alternativa que complete corretamente a lacuna no texto:

- a) presidente da Organização das Nações Unidas (ONU)
- b) ativista ambiental sueca
- c) ativista social sueca

- d) defensora dos direitos humanos
- e) militante em defesa do feminismo

### Questão 37

Entre os principais destaques da economia de Fundão está a agricultura, com especial atenção para um produto do qual, segundo informa a prefeitura deste município, são produzidas cerca de 70 toneladas por ano. Tão importante é a sua importância que foi fundada uma cooperativa para profissionalizar o negócio, garantindo renda e trabalho para as famílias produtoras. Este produto é:

- a) A cachaça.
- b) O mel.
- c) O feijão.
- d) O granito.
- e) O mamão.

### Questão 38

A cidade de Fundão tem como principal atração turística as praias do distrito de Praia Grande, mas se engana quem pensa que esta é a única atração deste município. A área rural da cidade também tem seus atrativos. De acordo com informações que constam na página do município um dos destaques é:

- a) O Mosteiro Budista
- b) A ferrovia.
- c) A culinária.
- d) A Igreja dos Reis Magos.
- e) A Cachoeira de Fundão.

### Questão 39

No capítulo que trata da educação, um item da Lei Orgânica do município de Fundão diz que os recursos do município serão destinados às escolas públicas, mas podem ser dirigidos às escolas comunitárias, às confessionais ou filantrópicas, definidas em lei, desde que:

- a) I) Comprovem finalidade não lucrativa e apliquem seus excedentes financeiros em atividades culturais;  
II) Assegurem a destinação de seu patrimônio a outra escola comunitária, filantrópica, ou confessional ou ao Município, no caso de encerramento de suas atividades.

- b) I) Comprovem ou não finalidade não lucrativa e apliquem seus excedentes financeiros em educação;  
II) Assegurem a destinação de seu patrimônio a outra escola comunitária, filantrópica ou confessional ou ao Município, no caso de encerramento de suas atividades.
- c) I) Comprovem finalidade não lucrativa e apliquem seus excedentes financeiros em educação;  
II) Assegurem a destinação de seu patrimônio a outra escola comunitária, filantrópica ou confessional ou ao Município, no caso de encerramento de suas atividades.
- d) I) Comprovem finalidade não lucrativa e apliquem seus excedentes financeiros em educação;  
II) Assegurem a destinação de seu patrimônio a outra escola comunitária, filantrópica, privada ou confessional ou ao Município, no caso de encerramento de suas atividades.
- e) I) Comprovem finalidade não lucrativa e apliquem seus excedentes financeiros em projetos artísticos;  
II) Assegurem a destinação de seu patrimônio a outra escola comunitária, filantrópica, privada ou confessional ou ao Município, no caso de encerramento de suas atividades.

### Questão 40

O Capítulo II do Regime Jurídico Único (Lei 804/1993) trata das vantagens pecuniárias e o artigo 74 da seção I (da especificação) cita as vantagens pecuniárias que o servidor receberá, além do vencimento. Entre as alternativas escolha a que **NÃO** configura uma destas vantagens:

- a) Seguro de vida.
- b) Indenização.
- c) Décimo terceiro vencimento.
- d) Gratificações e adicionais.
- e) Auxílios pecuniários.

## Conhecimentos Específicos

### Questão 41

Marque a alternativa INCORRETA:

- a) A vacinação é uma medida eficaz da prevenção de algumas doenças infectocontagiosas.

- b) O aumento da cobertura populacional do saneamento básico pode ser considerado uma medida profilática para doenças infectocontagiosas.
- c) Doenças infectocontagiosas são doenças causadas por um agente infeccioso que apresentam transmissão pelo contato direto.
- d) As medidas preventivas para doenças infectocontagiosas podem ser dirigidas para fatores relacionados ao agente causador, ao hospedeiro e ao meio ambiente.
- e) Ações genéricas como melhoria do nível de vida da população, da qualidade da educação, alimentação e habitação não contribuem na prevenção de doenças infectocontagiosas.

#### Questão 42

Considere as afirmativas abaixo:

- Constitui um dos mais importantes meios de prevenção de doenças, dentre todas as atividades de saúde pública.
- Consiste em um conjunto de serviços, infraestruturas e instalações de abastecimento de água, esgotamento sanitário, limpeza urbana e manejo de resíduos sólidos e drenagem de águas pluviais urbanas.
- É o controle de todos os fatores do meio físico do homem que exercem ou podem exercer efeito deletério sobre o seu bem-estar físico, mental ou social. Seu objetivo maior é a promoção da saúde do homem, pois muitas doenças podem proliferar devido à carência dessas medidas.

As afirmativas se referem ao (à):

- a) Bioética.
- b) Vigilância epidemiológica.
- c) Saneamento básico.
- d) Urbanização.
- e) Biossegurança.

#### Questão 43

O descarte inadequado de resíduos tem produzido passivos ambientais capazes de colocar em risco e comprometer os recursos naturais e a qualidade de vida das atuais e futuras gerações. Os resíduos dos serviços de saúde - RSS se inserem dentro desta problemática e vêm assumindo grande importância nos últimos anos. No Brasil a Agência Nacional de Vigilância Sanitária - ANVISA e o Conselho Nacional do Meio Ambiente - CONAMA tem o papel de

orientar, definir regras e regular a conduta dos diferentes agentes, no que se refere à geração e ao manejo dos resíduos de serviços de saúde, com o objetivo de preservar a saúde e o meio ambiente, garantindo a sua sustentabilidade.

Todas as alternativas estão corretas EXCETO:

- a) Todo gerador deve elaborar um Plano de Gerenciamento de Resíduos de Serviços de Saúde - PGRSS, baseado nas características dos resíduos gerados e na classificação do resíduo, estabelecendo as diretrizes de manejo dos RSS.
- b) Os serviços de saúde são os responsáveis pelo correto gerenciamento de todos os RSS por eles gerados, atendendo às normas e exigências legais, desde o momento de sua geração até a sua destinação final.
- c) Os resíduos líquidos devem ser acondicionados em recipientes constituídos de material compatível com o líquido armazenado, resistentes, rígidos e estanques, com tampa rosqueada e vedante.
- d) A coleta e o transporte externo dos Resíduos de Serviços de Saúde devem ser compatíveis com os Planos Municipais e do Distrito Federal de Gestão Integrada de Resíduos Sólidos e com as demais normativas aplicáveis.
- e) O tratamento dos RSS deve ser aplicado no próprio estabelecimento gerador.

#### Questão 44

A Lei Orgânica da Saúde de 1990 define as atribuições da vigilância sanitária como "um conjunto de ações capazes de eliminar, diminuir ou prevenir riscos à saúde e de intervir nos problemas sanitários decorrentes do meio ambiente, da produção e circulação de bens e da prestação de serviços de interesse da saúde". Assim a vigilância sanitária "é a instância responsável por exigir o cumprimento das normas sanitárias vigentes, fazendo uso de sua atribuição de polícia sanitária administrativa, podendo valer-se de atos discricionários que não prejudiquem o objetivo de salvaguardar a saúde dos consumidores" (Fonte: [http://www.epsjv.fiocruz.br/sites/default/files/seguranca\\_alimentar\\_vigilancia\\_0.pdf](http://www.epsjv.fiocruz.br/sites/default/files/seguranca_alimentar_vigilancia_0.pdf))

Diante desse contexto, analise as alternativas abaixo:

- I- A fiscalização de locais que produzem, transportam e comercializam alimentos visa promover a boa prática na produção e manipulação

de alimentos que possibilitem minimizar ou eliminar os potenciais riscos desses produtos e serviços ao consumidor.

II- Estados e Municípios não têm autonomia para legislar sobre as ações e serviços públicos de saúde no seu âmbito de atuação, porém são eles os responsáveis pela fiscalização rotineira de alimentos e pela inspeção de estabelecimentos de alimentos.

III- Quando há descumprimento da legislação sanitária, verificado por meio de laudos, denúncias e fiscalização de alimentos e estabelecimentos, medidas previstas na legislação podem ser aplicadas com caráter punitivo e/ou cautelar. São elas: apreensões, interdições, suspensões e proibições.

IV- À Vigilância Sanitária, cabe o controle e a fiscalização de produtos industrializados e a fiscalização de alimentos no comércio.

Julgue as afirmativas que estão corretas e assinale a alternativa correspondente:

- a) Apenas III e IV.
- b) Apenas I e II.
- c) Apenas I e IV.
- d) Apenas I, III e IV.
- e) Apenas II e III.

#### Questão 45

"O monitoramento da qualidade da água pode ser definido como procedimento programado de amostragem, mensuração e subsequente registro de diversas características da água, com vistas à avaliação da conformidade da água ao uso pretendido" (Fonte: [acoonaal\\_panoou\\_ude.gov.br/bvs/publicacoes/diretriz\\_nacional\\_plano\\_amostragem\\_agua.pdf](http://acoonaal_panoou_ude.gov.br/bvs/publicacoes/diretriz_nacional_plano_amostragem_agua.pdf))

Nesse sentido, o Programa Nacional de Vigilância da Qualidade da Água para Consumo Humano (Vigiagua), estruturado a partir dos princípios do Sistema Único de Saúde (SUS), desempenha um papel importante para garantir a qualidade e segurança da água para consumo humano no Brasil.

Diante do contexto da vigilância da qualidade da água para consumo humano, marque a alternativa INCORRETA:

- a) A identificação de pontos críticos/vulneráveis (fatores de risco) em sistemas e soluções alternativas de abastecimento é um dos objetivos do monitoramento da água.

- b) O plano de amostragem de rotina da vigilância da qualidade da água para consumo humano deve envolver o plano de amostragem básico, mas nunca o plano de monitoramento de agrotóxicos.
- c) Os parâmetros que compõem o plano de amostragem básico são eles: turbidez, cloro residual livre (ou outro composto residual ativo, caso o agente desinfetante utilizado não seja o cloro), coliformes totais/*Escherichia coli* e fluoreto.
- d) Para implantação do monitoramento e de demais ações realizadas pela vigilância da qualidade da água, é necessário considerar os recursos disponíveis, como rede de laboratórios, transporte para coleta de amostras e equipamentos para análises de campo.
- e) São objetivos do monitoramento da água: avaliar a eficiência do tratamento da água e avaliar a integridade do sistema de distribuição.

#### Questão 46

Controle Sanitário do risco à saúde, que compreende o monitoramento de todas as etapas da cadeia produtiva envolvendo as atividades de fabricação, armazenamento, distribuição, transporte, comercialização e uso e/ou consumo, com objetivo de garantir a qualidade, segurança e eficácia dos produtos. O cumprimento dos quesitos de eficácia, conformidade, desempenho e efetividade visam garantir a segurança sanitária do produto no momento de sua utilização.

\_\_\_\_\_ é a observância das normas técnicas que se aplicam ao produto para a correta execução das funções prometidas;

\_\_\_\_\_ é o efeito que resulta do uso do produto em condições controladas e

\_\_\_\_\_ é o efeito obtido quando se está utilizando o produto durante os serviços de rotina. O \_\_\_\_\_

está diretamente associado à execução da atividade para qual o produto foi projetado, sendo os resultados medidos por meio de indicadores.

Assinale a alternativa que contém a sequência que completa os espaços corretamente:

- a) Conformidade; eficácia; efetividade; desempenho.
- b) Eficácia; conformidade; desempenho; efetividade.
- c) Conformidade; eficácia; desempenho; efetividade.
- d) Desempenho; eficácia; efetividade; conformidade.
- e) Eficácia; conformidade; efetividade; desempenho.



**Questão 47**

Em relação a coleta de amostras de gêneros alimentícios para análise em laboratório no âmbito do SISTEMA NACIONAL DE VIGILÂNCIA SANITÁRIA, marque Verdadeiro (V) ou Falso (F) nos itens abaixo:

() No caso de reclamações/denúncias e solicitações oficiais, se a embalagem estiver aberta ou parcialmente consumida, deve-se coletar a amostra fechada do mesmo lote, até mesmo no caso de surto vinculado a doenças transmitidas por alimentos (DTA).

() Em produtos alimentícios destinados ao consumo, pode-se dispensar a coleta quando a autoridade sanitária constatar irregularidades ou falhas no acondicionamento ou embalagem, armazenamento, transporte, prazo de validade, venda ou exposição à venda.

() Nos casos em que há constatação visual de irregularidades - como alteração de aspecto, presença de materiais estranhos e falha na inviolabilidade da embalagem - em uma ou mais unidades do produto, não é necessária a coleta de amostra para envio ao laboratório, sendo suficiente a constatação e o registro da irregularidade pelo fiscal.

() As amostras devem ser coletadas em quantidade suficiente para garantir a realização das análises laboratoriais necessárias. A quantidade de amostra a coletar e remeter ao laboratório depende do produto, da modalidade analítica, do objetivo da coleta, dentre outros fatores.

A sequência correta é:

- a) V, V, V, V.
- b) F, F, V, V.
- c) V, V, F, F.
- d) F, V, F, V.
- e) F, V, V, V.

**Questão 48**

Para realizar a coleta de amostras bromatológicas e toxicológicas nos surtos de Doença Transmitida por Alimento- DTA no âmbito do SISTEMA NACIONAL DE VIGILÂNCIA SANITÁRIA, recomenda-se que:

- a) Em casos de suspeita de botulismo, na ausência de restos do alimento efetivamente consumido, não se deve coletar a própria embalagem vazia, já que a toxina só se adere ao alimento e nunca a embalagem.

- b) Deve-se sempre utilizar para coleta de amostra os próprios talheres do estabelecimento que estão sendo usado para servir o alimento.
- c) A amostra coletada seja constituída do alimento que foi efetivamente consumido pelos afetados, e quando não for possível, podem ser coletadas amostras do(s) produto(s) envolvido(s) no preparo do alimento(s) e dos utensílios caso não tenham sido lavados.
- d) Eventuais sobras de alimentos suspeitos nunca devem ser coletadas.
- e) Alimentos líquidos ou bebidas não devem ser agitados antes da coleta, que deve ser realizada com utensílio esterilizado ou vertendo em tubo largo esterilizado.

**Questão 49**

As medidas sanitárias representam às ações fiscais e administrativas que são tomadas para proteger a população de um risco sanitário. Elas podem ser divididas em dois tipos: medidas preventivas e medidas decorrentes do Processo Administrativo Sanitário.

As medidas preventivas determinadas pela Anvisa abrangem todo o território nacional e são publicadas no Diário Oficial da União (DOU), por meio de Resoluções Específicas (REs). São exemplos de medidas preventivas sanitárias no tópico de Produtos Irregulares (Medicamentos, Produtos para Saúde, Cosméticos, Saneantes):

I. Suspensão

II. Apreensão e inutilização/ Proibição de distribuição, comércio e uso/ Proibição de divulgação

III. Interdição Cautelar

IV. Recolhimento

Analise as descrições abaixo referentes às medidas preventivas sanitárias e correlacione cada medida (I, II, III ou IV) com a sua descrição correta:

() Medidas aplicadas para retirar do mercado produtos flagrantemente ilegais, tais como produtos falsificados, contrabandeados e também produtos clandestinos, fabricados, comercializados e divulgados por empresas sem a autorização de funcionamento da Anvisa.

() Medida preventiva e temporária, adotada em caso de violação da legislação sanitária ou de risco iminente à saúde, como nos casos de suspeita de desvios de qualidade que podem trazer danos à população.

(\_\_ ) Ação que visa à imediata e eficaz retirada do mercado de determinado(s) lote(s) de produto, com indícios suficientes ou comprovação de desvio de qualidade, que possa representar risco à saúde, ou ainda por ocasião de cancelamento de registro relacionado à segurança e eficácia do produto.

(\_\_ ) Medida aplicada quando o produto apresenta irregularidades associadas às atividades de fabricação, importação, distribuição, divulgação e comércio, quando identificado um descumprimento de exigências regulamentares, tais como os requisitos de boas práticas de fabricação. Dura o tempo necessário para corrigir as irregularidades constatadas.

A correlação correta é definida pela ordem:

- a) II; IV; I; III.
- b) II; III; I; IV.
- c) III; II; IV; I.
- d) IV; II; I; III.
- e) II; III; IV; I.

#### Questão 50

As infrações sanitárias serão apuradas em processo administrativo próprio, o que é iniciado com a \_\_\_\_\_ . A observância de todos os requisitos legais para sua confecção é de extrema relevância, tendo em vista que, como peça inaugural do processo administrativo sanitário, vincula todo o procedimento subsequente.

Marque a alternativa que completa corretamente a lacuna:

- a) lavratura de auto de infração
- b) apreensão de todos os produtos e autuação.
- c) interdição total e irreversível do estabelecimento.
- d) condenação da empresa autuada.
- e) aplicação de multa e interdição do estabelecimento.