

MOTORISTA PROFISSIONAL

Nome do Candidato _____			Nº Inscrição _____	Nº Prova 3294
Documento _____	Tipo N	Local _____		

LEIA COM ATENÇÃO AS INSTRUÇÕES ABAIXO:

- É proibido folhear o caderno de provas antes da autorização do fiscal.**
- É responsabilidade exclusiva do candidato à conferência de seus dados pessoais, em especial o nome, o número de inscrição, o número de seu documento de identidade, cargo de sua opção e a marcação do gabarito na sua Folha de Respostas. Quaisquer problemas deverão ser comunicados ao fiscal/chefe de sala, para registro em ata.
- Confira os dados impressos no cartão resposta e se este caderno de provas corresponde ao cargo (cabeçalho desta página) para o qual você se candidatou.
- Assine o cartão de respostas.**
- Verifique se este caderno de prova contém **50 questões**. Não serão consideradas reclamações posteriores ao término da prova.
- Cada questão da prova objetiva constitui-se de cinco alternativas, identificadas pelas letras A, B, C, D e E, das quais apenas uma será a resposta correta.
- Preencha o cartão de respostas da prova objetiva utilizando caneta esferográfica azul ou preta, preenchendo totalmente o campo de marcação, ao lado dos números, que corresponde à resposta correta.
- Serão consideradas incorretas questões para as quais o candidato tenha preenchido no cartão resposta mais de uma opção, bem como questões em que o campo de marcação apresente rasuras, emendas ou que não esteja preenchido integralmente.
- O cartão resposta será o único documento válido para a correção das provas objetivas e não será substituído em hipótese alguma; portanto, evite rasuras.
- Em sala, a comunicação entre os candidatos não será permitida, sob qualquer forma ou alegação.
- Não será permitido o uso de calculadoras, dicionários, telefones celulares, pen drive ou de qualquer outro recurso didático, elétrico ou eletrônico, nem o uso de qualquer acessório que cubra as orelhas do candidato.
- A prova objetiva terá duração máxima de 3 horas e 30 minutos**, incluído o tempo para preenchimento do cartão de respostas.
- O candidato somente poderá retirar-se do local de prova após 1 (uma) hora de seu início e poderá levar o caderno de provas 1 (uma) hora antes de seu término.
- Os (3) três últimos candidatos somente poderão retirar-se da sala de prova simultaneamente e devem fazê-lo após a assinatura da ata de sala.**
- As saídas para banheiro, tomar medicamento e água, só serão permitidas durante a realização das provas. Não será permitida a permanência de candidatos no local de realização das provas após o término e a entrega do cartão respostas, devendo o candidato retirar-se imediatamente do local, não sendo possível nem mesmo a utilização dos banheiros e bebedouros.
- Os fiscais **NÃO** estão autorizados a prestar informações de interpretação das questões. Sua função é apenas fiscalizar e orientar quanto ao funcionamento do certame.
- Ao concluir a prova, entregue ao fiscal de sala o cartão de respostas.

Boa prova!

01		02		03		04		05		06		07		08		09		10	
11		12		13		14		15		16		17		18		19		20	
21		22		23		24		25		26		27		28		29		30	
31		32		33		34		35		36		37		38		39		40	
41		42		43		44		45		46		47		48		49		50	



RASCUNHO

Língua Portuguesa**TEXTO 01**

O texto abaixo servirá de base para responder as questões de 01 a 03.

O conto da mentira

Todo dia Felipe inventava uma mentira. "Mãe, a vovó tá no telefone!". A mãe largava a louça na pia e corria até a sala. Encontrava o telefone mudo.

O garoto havia inventado morte do cachorro, nota dez em matemática, gol de cabeça em campeonato de rua. A mãe tentava assustá-lo: "Seu nariz vai ficar igual ao do Pinóquio!". Felipe ria na cara dela: "Quem tá mentindo é você! Não existe gente de madeira!".

O pai de Felipe também conversa com ele: "Um dia você contará uma verdade e ninguém acreditará!" Felipe ficava pensativo. Mas, no dia seguinte...

Então, aconteceu o que seu pai alertara. Felipe assistia a um programa na TV. A apresentadora ligou para o número do telefone da casa dele. Felipe tinha sido sorteado. O prêmio era uma bicicleta: "É verdade, mãe! A moça quer falar com você no telefone pra combinar a entrega da bicicleta. É verdade!".

A mãe de Felipe fingiu não ouvir. Continuou preparando o jantar em silêncio. Resultado: Felipe deixou de ganhar o prêmio. Então ele começou a reduzir suas mentiras. Até que um dia deixou de contá-las. Bem, Felipe cresceu e tornou-se um escritor. Voltou a criar histórias. Agora sem culpa e sem medo. No momento está escrevendo um conto. É a história de um menino que deixa de ganhar uma bicicleta porque mentia...

AUGUSTO, Rogério. FOLHA DE SÃO PAULO. São Paulo. Miniconto. Folhinha 14 jun. 2003. F8 C1 -1.

Questão 01

"A mãe tentava assustá-lo." A palavra destacada refere-se a:

- a) Pinóquio.
- b) Pai.
- c) Escritor.
- d) Felipe.
- e) Cachorro.

Questão 02

"Então, ele começou a **reduzir** suas mentiras". A palavra que pode substituir a que está em destaque no período é:

- a) Esticar.
- b) Diminuir.
- c) Amplificar.
- d) Aumentar.
- e) Expandir.

Questão 03

De acordo com o texto, o que motivou Felipe a reduzir suas mentiras?

- a) Quando ele deixou de ganhar a bicicleta do programa de televisão.
- b) Quando sua mãe tentava assustá-lo.
- c) Quando o garoto inventou a morte do cachorro.
- d) Quando assistia a um programa na TV.
- e) Quando o pai tentava conversar com ele.

TEXTO 02

O texto abaixo servirá de base para responder as questões de 04 a 05.

Leia um trecho do poema "O Amor Antigo!", de Carlos Drummond de Andrade.

"O antigo amor, porém, nunca fenece
e a cada dia surge mais amante.

Mais ardente, mas pobre de esperança.
Mais triste? Não. Ele venceu a dor,
e resplandece no seu canto obscuro,
tanto mais velho quanto mais amor."

Carlos Drummond de Andrade

Questão 04

No primeiro verso, a palavra **fenece** é antônima de:

- a) Vive.
- b) Morre.
- c) Assusta.
- d) Transforma.

e) Renasce.

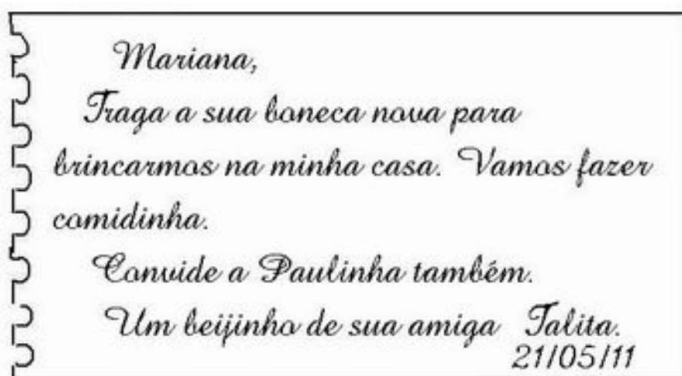
Questão 05

A palavra porém, no primeiro verso, é acentuada, pois trata-se de uma:

- a) Proparoxítona.
- b) Oxítona.
- c) Paroxítona.
- d) Monossílaba.
- e) Dissílaba.

TEXTO 03

O texto abaixo servirá de base para responder as questões de 06 a 07.



<http://portaldoprofessor.mec.gov.br/fichaTecnicaAula.html?aula=54741>

Questão 06

11- Na oração "Traga a sua boneca nova...", o verbo destacado indica:

- a) Pedido.
- b) Afugentamento.
- c) Abdicação.
- d) Autorização.
- e) Distanciamento.

Questão 07

A vírgula empregada após a palavra Mariana serve para indicar uma:

- a) Ordem.
- b) Sugestão.

- c) Invocação.
- d) Orientação.
- e) Indicação.

TEXTO 04

O texto abaixo servirá de base para responder as questões de 08 a 09.

A Carta

Esta história é de dois namorados, ele chamado Haroldo e ela, Marta. Os dois brigaram feio, e Marta escreveu uma carta para Haroldo, rompendo definitivamente o namoro e ainda dizendo uma verdade que ele precisava ouvir. Ou, no caso, ler. Mas Marta se arrependeu do que tinha escrito e no dia seguinte fez plantão na calçada em frente do edifício de Haroldo, esperando o carteiro. Precisava interceptar a carta de qualquer jeito. Quando o carteiro apareceu, Marta fingiu que estava chegando ao edifício e perguntou:

- Alguma coisa para o 702? Eu levo.

Mas não tinha nada para o 702. No dia seguinte tinha, mas não a carta de Marta. No terceiro dia, o carteiro desconfiou, hesitou em entregar a correspondência a Marta, que foi obrigada a fazer uma encenação dramática. Não era do 702. Era a autora de uma carta para o 702. E queria a carta de volta. Precisava daquela carta. Era importantíssimo ter aquela carta. Não podia dizer por quê. Afinal, a carta era dela mesma, devia ter o direito de recuperá-la quando quisesse! O carteiro disse que o que ela estava querendo fazer era crime federal, mas mesmo assim olhou os envelopes do 702 para ver se entre eles estava a carta. Não estava. No dia seguinte - quando Marta ficou sabendo que o carteiro se chamava Jessé e, apesar de tão jovem, já era viúvo, além de colorado - também não. No outro dia também não, e o carteiro convidou Marta para, quem sabe, um chope. Na manhã depois do chope, a carta ainda não tinha chegado e Marta e Jessé combinaram ir ver Titanic juntos. No dia seguinte - nem sinal da carta - Jessé perguntou se Marta não queria conhecer sua casa. Era uma casa pobre, morava com a mãe, mas, se ela não se importasse... Marta disse que ia pensar.

No dia seguinte, chegou a carta. Jessé deu a carta a Marta. Ela ficou olhando o envelope por um longo minuto. Depois a devolveu ao carteiro e disse:

- Entregue.

E, diante do espanto de Jessé, explicou que só queria ver se tinha posto o endereço certo.

Luis Fernando Verissimo

Questão 08

Assinale a alternativa cujo fato desencadeou o conflito dessa história:

- a) O plantão que Marta fez na calçada em frente ao edifício de Haroldo.
- b) A carta escrita por Marta para seu namorado.
- c) A encenação dramática feita por Marta.
- d) A aparição do carteiro.
- e) O fingimento de Marta chegando ao edifício.

Questão 09

Classifique as afirmações abaixo, referentes ao primeiro parágrafo do texto, como verdadeiras (V) ou falsas (F):

- () Essa é uma história de uma briga entre recém-casados.
- () Haroldo e Marta tiveram uma discussão.
- () Marta não se arrependeu do que tinha escrito para Haroldo.

A sequência correta é:

- a) F - F - F.
- b) V - F - V.
- c) F - F - V.
- d) F - V - F.
- e) V - V - V.

Questão 10

Observe as orações abaixo:

- I) Os ladrões assaltaram o banco.
- II) Os cidadãos participaram do plebiscito.
- III) Os corações estão dilacerados.

Considerando o plural das palavras destacadas, pode-se afirmar:

- a) Somente a III está correta.
- b) I, II e III estão corretas.
- c) I, II e III estão incorretas.
- d) Apenas I e II estão corretas.
- e) Somente a II está incorreta.

Questão 11

Indique a alternativa em que todas as palavras foram acentuadas corretamente:

- a) Próximo / tabú / rúim.
- b) Repórter / tórax / lâmpada.
- c) Cálcio / magôa / dominó.
- d) Sofá / infância / parabêns.
- e) Herói / vendêr / semênte.

Questão 12

Assinale a opção cuja frase está pontuada corretamente:

- a) A gatinha parece, uma bola de neve.
- b) Quero sair de casa mas meu pai não deixa.
- c) Gosto: de comer maçã e banana.
- d) Mariana você vai à festa?
- e) Vitória, a capital do Espírito Santo, é um belíssimo lugar.

Questão 13

Observe as frases abaixo e assinale que a única que é nominal:

- a) Que sopa deliciosa!
- b) A garota ficou nervosa com a situação.
- c) Fui ontem ao parque.
- d) O ônibus chegou atrasado.
- e) Hoje o dia está muito quente.

Questão 14

Assinale a alternativa em que todas as palavras pertencem à classe gramatical dos substantivos:

- a) Joaquina - mesa - Rio de Janeiro - táxi.
- b) Correr - aquele - menino - ajudar.
- c) Eu - pensamento - serviço - bonito.
- d) Sílabas - meu - viveu - simpático.
- e) Inteligente - bolsa - nossa - passarinho.

Questão 15

Assinale a alternativa que completa corretamente as lacunas das frases abaixo:

- _____ pessoas no parque.
- _____ soluções para o problema.
- _____ muitos anos que não a vejo.

- a) Haviam, Deveria haver, Farão.
- b) Haviam, Deveriam haver, Fazem.
- c) Havia, Deveriam haverem, Fazem.
- d) Há, Deveriam haver, Faziam.
- e) Havia, Deveria haver, Faz.

Questão 16

Todas as palavras foram escritas corretamente, exceto a alternativa:

- a) Excessão.
- b) Caxumba.
- c) Ressurreição.
- d) Cerejeiras.
- e) Jeito.

Questão 17

Todos os verbos a seguir encontram-se no modo indicativo. Analise-os e indique a alternativa correta em relação à classificação do tempo verbal a que se referem:

- I) inventava = Pretérito imperfeito.
- II) é = Presente.
- III) contará = Futuro do presente.
- IV) aconteceu = Pretérito perfeito.
- V) alertara = Pretérito mais-que-perfeito.

- a) I e IV estão corretas.
- b) As alternativas I, II, III, IV e V estão incorretas.
- c) As alternativas I, II, III, IV e V estão corretas.
- d) III e V estão corretas.
- e) Somente a I está correta.

Questão 18

Sobre a concordância nominal, aponte a alternativa em que há erro de concordância:

- a) Há bastantes pessoas nesta escola.
- b) Estou meia cansada hoje.
- c) Obrigada respondeu a garota ao rapaz.
- d) É proibida a entrada de pessoas estranhas neste lugar.
- e) Paciência é necessário.

Questão 19

Marque a alternativa em que todas as palavras foram separadas corretamente:

- a) di-sse / de-vol-veu / Jes-sé
- b) cor-res-pon-dên-cia / car-te-i-ro / ex-pli-cou
- c) vi-ú-vo / con-vi-do-u / que-ri-a
- d) ar-re-pen-deu / qui-ses-se / in-ter-cep-tar
- e) e-di-fí-ci-o / im-por-tan-tís-si-mo / he-si-to-u

Questão 20

Numere a 2ª coluna de acordo com a 1ª:

- (1) Sujeito simples
- (2) Sujeito composto
- (3) Sujeito Oculto/Desinencial
- (4) Sujeito indeterminado
- (5) Oração sem sujeito/Inexistente

- () Vive-se bem neste lugar.
- () Choveu muito na região Sudeste.
- () João comprou um carro novo.
- () Fomos à praia no último fim de semana.
- () Carolina e Eliana são amigas.

Assinale a opção que possui a sequência correta:

- a) 1 - 2 - 5 - 4 - 3.
- b) 4 - 5 - 1 - 3 - 2.
- c) 4 - 5 - 3 - 2 - 1.
- d) 2 - 4 - 1 - 3 - 5.
- e) 3 - 2 - 1 - 5 - 4.

Raciocínio Lógico/Matemática**Questão 21**

Mirian, Carla, Lucia, Maria e Joana foram ao supermercado. Mirian comprou 1,4kg de cenoura 2kg de feijão e 1,5kg de batata. Carla comprou 2kg de carne 1kg de farinha e 3,9kg de batata. Lucia comprou 2,3kg de abóbora, 1kg de feijão e 1,5kg de farinha. Maria comprou 1,5kg de feijão, 2,6kg de batata. Joana comprou 4,9kg de carne Quem fez a compra mais pesada?

- a) Maria.
- b) Lucia.
- c) Mirian.
- d) Carla.

e) Joana.

Questão 22

Regina, Lucia e Flávia foram a um restaurante, comeram uma porção de R\$ 36,00, dois refrigerantes cada uma de R\$ 3,00 cada e dividiram a conta em três partes iguais. Cada uma pagou:

- a) R\$ 18,00
- b) R\$ 12,00
- c) R\$ 20,00
- d) R\$ 16,00
- e) R\$ 15,00

Questão 23

Qual o próximo número da sequência (8; 6; 5; 4,5; ...)?

- a) 3
- b) 4,25
- c) 5
- d) 3,5
- e) 5,5

Questão 24

Ana juntou em seu cofre R\$ 239,20 e com esse dinheiro resolveu comprar uma calça. Ao chegar à loja, gostou de uma calça que custava R\$ 260,00. Por não ter todo o dinheiro, insistiu com o vendedor que lhe desse um desconto suficiente para comprá-la e ele acabou aceitando. Qual a porcentagem do desconto dado?

- a) 15%
- b) 20%
- c) 12%
- d) 5%
- e) 8%

Questão 25

Quantos números pares e quantos ímpares podemos formar de 200 a 300, com os algarismos 0, 2 e 3?

- a) Trinta pares e vinte ímpares
- b) Dois pares e dois ímpares
- c) Três pares e três ímpares
- d) Vinte pares e Trinta ímpares

e) Três pares e dois ímpares

Questão 26

Se Claudio é 65cm maior que Leila e ela é 50 cm menor que Flávio, que mede 1,72m. A altura de Claudio é:

- a) 1,87m
- b) 1,15m
- c) 1,65m
- d) 1,22m
- e) 1,07m

Questão 27

Marcos foi medir um terreno para construir sua casa e como sabia que ele era quadrado mediu apenas um dos lados, que deu 16,3m. Em seu projeto, decidiu fazer uma área de lazer de 16,3m x 3m. Quantos metros quadrados (m²) restaram para projetar a obra da casa? (Área = lado x lado)

- a) 16,3
- b) 65,2
- c) 265,69
- d) 48,9
- e) 216,79

Questão 28

Nas opções abaixo temos os nomes de algumas figuras geométricas. Por uma análise lógica, qual delas não pertence ao grupo?

- a) Trapézio.
- b) Triângulo.
- c) Círculo.
- d) Retângulo.
- e) Cubo.

Questão 29

João tem três filhos. O mais velho tem o triplo e o do meio tem o dobro da idade do mais novo. Se a soma das idades dos três é igual a 72, as idades deles são:

- a) 12 anos, 24 anos e 36 anos.
- b) 12 anos, 20 anos e 30 anos.
- c) 10 anos, 20 anos e 30 anos.

- d) 14 anos, 28 anos e 42 anos.
- e) 18 anos, 36 anos e 72 anos.

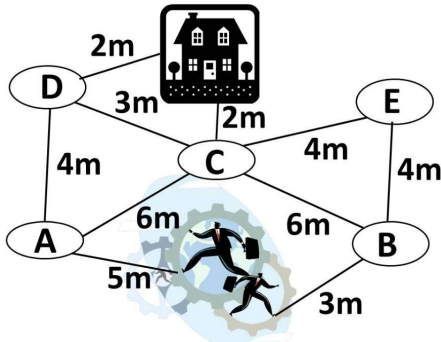
Questão 30

Na teoria matemática ao se agrupar elementos como números, objetos ou mesmo pessoas por características (cor dos olhos, cabelo, etc), estamos formando o que é chamado de:

- a) Mistura.
- b) Emaranhado.
- c) Conjunto.
- d) Grupo.
- e) Agrupamento.

Questão 31

A figura traz várias opções para os personagens chegarem a casa. Qual o caminho mais comprido?



- a) A---C---CASA
- b) B---E---C---CASA
- c) B---C---CASA
- d) A---D---C---CASA
- e) A---D---CASA

Questão 32

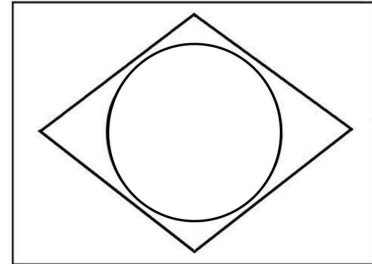
O raciocínio lógico pertence a um ramo da matemática que consiste em estabelecer coerência (lógica) a uma argumentação. Portanto, se estabelecemos um grupo seus elementos devem seguir um mesmo padrão. Sendo assim, qual dos itens abaixo não faz parte deste grupo?

- a) Blusa.
- b) Bermuda.
- c) Relógio.

- d) Calça.
- e) Camisa.

Questão 33

A bandeira do Brasil é formada por três figuras geométricas muito bem definidas e muito conhecidas. São elas:



- a) O retângulo, o losango e o círculo.
- b) O retângulo, o balão e o círculo.
- c) O retângulo, o balão e a bola.
- d) O quadrado, o losango e o círculo.
- e) O quadrado, o balão e o círculo.

Questão 34

Os números ($X - 1$; X ; $X + 1$) são consecutivos e sua soma é igual a 45. Quais são o antecessor e o sucessor de X ?

- a) 98 e 100
- b) 44 e 46
- c) 14 e 16
- d) 2 e 4
- e) 32 e 34

Questão 35

Silas está treinando para uma maratona e alcançou a marca de 2km a cada 15min. Em quantas horas ele fará o percurso de 24km?

- a) 24 horas
- b) 3 horas
- c) 18 horas
- d) 12 horas
- e) 15 horas

Conhecimentos Gerais**Questão 36**

Muitas pessoas acreditam que Direitos Humanos é uma entidade responsável por oferecer suporte, ou algum tipo de proteção indevida para determinados grupos de indivíduos, mas isto não é verdade. O conceito de Direitos Humanos está muito distante daquilo que muitos chamam de privilégios. Os itens abaixo descrevem alguns mitos e algumas verdades sobre este tema. Leia atentamente e em seguida marque a alternativa que corresponde aos itens que citam as verdades.

- I. Os Direitos Humanos abrangem um conjunto de aspectos básicos da vida humana que devem ser respeitados e garantidos.
- II. Apesar de não privilegiar apenas indivíduos de um grupo específico os direitos humanos não são universais.
- III. Direitos Humanos é uma Organização Não Governamental (ONG) que se dispõe a atender indivíduos que busquem seu apoio.
- IV. Alegações baseadas na Declaração Universal dos Direitos Humanos servem para evitar ações violentas e injustas.

Assinale a alternativa CORRETA.

- a) I e IV correspondem à verdade.
- b) II, III e IV correspondem à verdade
- c) I e III correspondem à verdade.
- d) I, III e IV correspondem à verdade.
- e) II e IV correspondem à verdade.

Questão 37

Segundo a coluna "Questões de Família" do site gazetaonline, de janeiro a novembro de 2019 o estado do Espírito Santo registrou 29 casos de feminicídio e em todo o ano mais de 14 mil registros de violências contra _____. Infelizmente, estas ocorrências têm sido cada vez mais frequentes no estado e em todo o país.

Assinale a alternativa que completa corretamente a lacuna no texto:

- a) a criança
- b) os idosos

- c) os homens
- d) as feministas
- e) a mulher

Questão 38

A história de Fundão se confunde com a de um município que ainda hoje está estreitamente ligado a ele. Tudo começou com a criação da Aldeia dos Reis Magos, que depois se tornou vila e, posteriormente, município. Com a construção da Estrada de Ferro Vitória a Minas no interior, surgiu o vilarejo de Fundão que cresceu aos poucos, recebendo famílias italianas que vinham de outras localidades e também diretamente da Itália. Em 1923 sua emancipação política foi decretada e Fundão deixou de pertencer ao município de:

- a) Aracruz.
- b) Nova Almeida.
- c) Santa Teresa.
- d) Serra.
- e) Ibirapu.

Questão 39

O mundo está se mobilizando para combater um novo vírus. Mais uma vez uma doença misteriosa assusta toda população, mata pessoas e faz com que pesquisadores do mundo inteiro se dediquem incansavelmente à busca por uma vacina. Os sintomas são semelhantes ao de uma gripe e evoluem para uma pneumonia. Este vírus é:

- a) H1N1.
- b) Coronavírus.
- c) Zika vírus.
- d) Rotavírus.
- e) Vírus do sarampo.

Questão 40

O sonho de "ganhar a vida" no exterior faz com que muitas pessoas e até mesmo famílias inteiras deixem o lugar onde moram para viajarem, principalmente para os Estados Unidos da América. O problema é que muitas destas pessoas se arriscam a entrar ilegalmente e quando conseguem vivem sob o medo de serem pegos pela polícia local. Recentemente os EUA enviaram de volta para o nosso país uma quantidade considerável de brasileiros que nesta condição são chamados de:

- a) Importados.
- b) Deportados.
- c) Exportados.
- d) Exonerados.
- e) Recondicionados.

Questão 41

"Homenageando os padroeiros, São Benedito e São Sebastião os festejos que acontecem ao longo do litoral capixaba mantêm firme a tradição e a memória da comunidade fundoense." fonte: www.folhavitoria.com.br

Este movimento cultural que envolve religião, música e dança, faz parte da história de todo o estado, mas ganha especial atenção em alguns municípios, como por exemplo, o de Fundão. Estamos falando:

- a) Do forró.
- b) Da quadrilha.
- c) Da capoeira.
- d) Do congo.
- e) Do carnaval.

Questão 42

O site da prefeitura de Fundão traz uma importante lição sobre a preservação do meio ambiente. Ao divulgar ações realizadas no litoral, orienta os frequentadores a preservar a vegetação que margeia toda a praia e ressalta seu papel na transição da orla com a mata atlântica. Esta vegetação é chamada de:

- a) Caatinga.
- b) Mangue.
- c) Campinarana.
- d) Restinga.
- e) Cerrado.

Questão 43

O município de Fundão é privilegiado em termos econômicos, pois sua localização entre a área rural e a praiana, passando pela sede às margens da BR 101, permite a exploração comercial e também turística. De acordo com informações obtidas no site de sua prefeitura, este município possui três distritos. O distrito que abrange a região litorânea é:

- a) Timbuí
- b) Praia Grande.

- c) Sede.
- d) Irundi
- e) Pendanga.

Questão 44

Recentemente o Espírito Santo sofreu com uma tragédia sem precedentes, por causa das fortes chuvas que caíram no estado destruindo cidades quase que inteiras, causando mortes, mas também mostrando a força, a solidariedade e a união do povo capixaba. De acordo com o que foi amplamente divulgada nas mídias estadual e nacional, a região do Espírito Santo que foi mais prejudicada nesta ocasião foi à região:

- a) Nordeste.
- b) Norte.
- c) Centro-oeste.
- d) Sudeste.
- e) Sul.

Questão 45

Entender-se como um indivíduo membro de uma sociedade integrante de um Estado, conhecer seus direitos e participar ativamente de todo tipo de ação que vise a busca de condições de vida justas e igualitárias para toda a sociedade é exercer sua:

- a) Cidadania.
- b) Autonomia.
- c) Empatia.
- d) Simpatia.
- e) Soberania.

Questão 46

Além das muitas belezas naturais existentes em nosso planeta, a criatividade e o talento humano faz várias contribuições com a construção que podem ser chamadas de obras de arte. A exemplo dos gregos que elegeram as sete maravilhas do mundo antigo, em 7 de julho de 2007 foram anunciadas as 7 maravilhas do mundo moderno. A Grande Muralha da China, o Taj Mahal na Índia, Machu Picchu no Peru, Chichén Itzá no México, o Coliseu na Itália e a contribuição do Brasil foi com:

- a) O Teatro Amazonas.
- b) O Cristo Redentor.

- c) A Estação da Luz.
- d) A Igreja da Pampulha.
- e) O Convento da Penha.

Questão 47

Fundão é uma cidade cuja sede se situa às margens do rio _____, conhecido também como rio Fundão devido à sua profundidade, dando nome à cidade. <http://www.fundao.es.gov.br>

Assinale a alternativa que completa corretamente a lacuna do texto:

- a) Benevente.
- b) Piraqueaçu.
- c) Cricaré.
- d) Reis Magos.
- e) Santa Maria.

Questão 48

As ações baseadas em normas de conduta que devem ser cumpridas por um profissional no exercício de sua profissão, visando o bem estar comum, o respeito nas relações interpessoais e o cumprimento efetivo de suas atribuições chamamos de:

- a) Cooperação.
- b) Ética no trabalho.
- c) Responsabilidade.
- d) Profissionalismo.
- e) Dedicação.

Questão 49

O distrito de Irundi abriga um presente da natureza que encanta fundãoenses, capixabas e quem mais for visitá-lo. A mais de 840 metros de altitude, localizado na divisa dos municípios de Fundão e Santa Teresa, no pico do _____ é possível avistar vários municípios e parte do litoral entre Grande Vitória e Linhares. O nome que completa corretamente a lacuna do texto é:

- a) Ibirapu.
- b) Piraquê-Açu.
- c) Sauaçu.
- d) Itaguaçu.

- e) Goiapaba-Açu.

Questão 50

Entender a sociedade como um lugar onde "o seu direito termina onde começa o do outro" engloba valores que conceituam ações de respeito, devendo ser entendidas e aplicadas em qualquer ambiente, inclusive no trabalho. Esta descrição nos dá a noção de princípios:

- a) Educacionais.
- b) Éticos.
- c) Sociais.
- d) Trabalhistas.
- e) Filosóficos.