

**AUXILIAR ADMINISTRATIVO**

Nome do Candidato _____			Nº Inscrição _____	Nº Prova _____
Documento _____			Tipo <b>N</b>	Local _____

**LEIA COM ATENÇÃO AS INSTRUÇÕES ABAIXO:**

- 1. É proibido folhear o caderno de provas antes da autorização do fiscal.**
- É responsabilidade exclusiva do candidato à conferência de seus dados pessoais, em especial o nome, o número de inscrição, o número de seu documento de identidade, cargo de sua opção e a marcação do gabarito na sua Folha de Respostas. Quaisquer problemas deverão ser comunicados ao fiscal/chefe de sala, para registro em ata.
- Confira os dados impressos no cartão resposta e se este caderno de provas corresponde ao cargo (cabeçalho desta página) para o qual você se candidatou.
- 4. Assine o cartão de respostas.**
- Verifique se este caderno de prova contém **50 questões**. Não serão consideradas reclamações posteriores ao término da prova.
- Cada questão da prova objetiva constitui-se de cinco alternativas, identificadas pelas letras A, B, C, D e E, das quais apenas uma será a resposta correta.
- Preencha o cartão de respostas da prova objetiva utilizando caneta esferográfica azul ou preta, preenchendo totalmente o campo de marcação, ao lado dos números, que corresponde à resposta correta.
- Serão consideradas incorretas questões para as quais o candidato tenha preenchido no cartão resposta mais de uma opção, bem como questões em que o campo de marcação apresente rasuras, emendas ou que não esteja preenchido integralmente.
- O cartão resposta será o único documento válido para a correção das provas objetivas e não será substituído em hipótese alguma; portanto, evite rasuras.
- Em sala, a comunicação entre os candidatos não será permitida, sob qualquer forma ou alegação.
- Não será permitido o uso de calculadoras, dicionários, telefones celulares, pen drive ou de qualquer outro recurso didático, elétrico ou eletrônico, nem o uso de qualquer acessório que cubra as orelhas do candidato.
- A prova objetiva terá duração máxima de 3h30min**, incluído o tempo para preenchimento do cartão de respostas.
- O candidato somente poderá retirar-se do local de prova após 1h hora de seu início e poderá levar o caderno de provas 1h hora antes de seu término.
- Os (3) três últimos candidatos somente poderão retirar-se da sala de prova simultaneamente e devem fazê-lo após a assinatura da ata de sala.**
- As saídas para banheiro, tomar medicamento e água, só serão permitidas durante a realização das provas. Não será permitida a permanência de candidatos no local de realização das provas após o término e a entrega do cartão respostas, devendo o candidato retirar-se imediatamente do local, não sendo possível nem mesmo a utilização dos banheiros e bebedouros.
- Os fiscais **NÃO** estão autorizados a prestar informações de interpretação das questões. Sua função é apenas fiscalizar e orientar quanto ao funcionamento do certame.
- Ao concluir a prova, entregue ao fiscal de sala o cartão de respostas.

**Boa prova!**

01		02		03		04		05		06		07		08		09		10	
11		12		13		14		15		16		17		18		19		20	
21		22		23		24		25		26		27		28		29		30	
31		32		33		34		35		36		37		38		39		40	
41		42		43		44		45		46		47		48		49		50	



**Página de Rascunho.**

**Língua Portuguesa****TEXTO 01**

*O texto abaixo servirá de base para responder as questões de 01 a 13.*

**ESCOLHA O SEU SONHO**

(1º§) Devíamos poder preparar os nossos sonhos como os artistas, as suas composições. Com a matéria sutil da noite e da nossa alma, devíamos poder construir essas pequenas obras-primas incomunicáveis, que, ainda menos que a rosa, duram apenas o instante em que vão sendo sonhadas, e logo se apagam sem outro vestígio que a nossa memória.

(2º§) Assim, tudo seria como quem resolve uma viagem. Portanto, devíamos poder escolher essas excursões sem veículos nem companhia - por mares, grutas, neves, montanhas, e até pelos astros, onde moram desde sempre heróis e deuses de todas as mitologias, e os fabulosos animais do Zodíaco. E estaríamos abstraído de um mundo de problemas, contemplando sempre a nossa imaginação.

(3º§) Devíamos, à vontade, passear pelas margens do Paraíba, lá onde suas espumas crespas correm com o luar por entre as pedras, ao mesmo tempo cantando e chorando. - Ou habitar uma tarde prateada de Florença, e ir sorrindo para cada estátua dos palácios e das ruas, como quem saúda muitas famílias de mármore... - Ou contemplar nos Açores hortênsias da altura de uma casa, lago de duas cores, e cestos de vime nascendo entre fontes, com águas frias de um lado e, do outro, quentes... - Ou chegar a Ouro Preto e continuar a ouvir aquela menina que estuda piano há duzentos anos, hesitante e invisível - enquanto o cavalo branco escolhe, de olhos baixos, o trevo de quatro folhas que vai comer...

(4º§) Quantos lugares, meu Deus, para essas excursões! Lugares recordados ou apenas imaginados. Campos orientais atravessados por nuvens de pavões. Ruas amarelas de pó, amarelas de sol, onde os camelos de perfil de gôndola estacionam, com seus carros. Avenidas cor-de-rosa, por onde cavaleiros emplumados, de rosa na testa e colar ao pescoço, conduzem leves e elegantes coches policromos... E lugares inventados, feitos ao nosso gosto; jardins no meio do mar; pianos brancos que tocam sozinhos; livros que se desarmam, transformados em música... Rios que vão subindo por cima das ilhas... meninos transparentes, que deixam ver a luz do sol do outro lado do corpo... gente com cabeça de pássaro... flechas voando atrás de sombras velozes... moças que se

transformam em guaribas... canoas... serras... bando de beija-flores e borboletas que trazem mel para a criança que tem fome e a levantam em suas asas...

(5º§) Devíamos poder sonhar com as criaturas que nunca vimos e gostaríamos de ter visto: Alexandre, o Grande; São João Batista; o Rei Davi, a cantar; o Príncipe Gautama. Este vultos foram notáveis para toda a humanidade, logo, merecem ser lembrados em nossos sonhos!!!

(6º§) E sonhar com os que amamos e conhecemos, e estão perto ou longe, vivos ou mortos... Sonhar com eles no seu melhor momento, quando foram mais merecedores de amor imortal. Você pode e deve ser sonhador, assim sendo, deve merecer bons sonhos.

(7º§) Ah! Sabemos que sonhar faz parte da vida, portanto sonhe, sonhe e sonhe sempre. Valorize o que aparece no seu sonho. A propósito, você gostaria de sonhar o que esta noite?

(Cecília Meireles)

**Questão 01**

Sobre a frase que dá título ao texto, marque a alternativa INCORRETA.

- a) O verbo está no modo imperativo, sugerindo ordem ou conselho ao interlocutor.
- b) O verbo "escolha" é de segunda conjugação, trissílabo paroxítono
- c) O pronome possessivo: "seu" é um monossílabo com ditongo decrescente.
- d) É uma frase nominal que tem por objetivo manter solidariedade com o leitor.
- e) Na frase, há dois termos escritos com dígrafo.

**Questão 02**

Os elementos linguísticos que compõem o trecho: "Devíamos poder preparar os nossos sonhos como os artistas, as suas composições. Com a matéria sutil da noite e da nossa alma, devíamos poder construir essas pequenas obras-primas incomunicáveis, que, ainda menos que a rosa, duram apenas o instante em que vão sendo sonhadas, e logo se apagam sem outro vestígio que a nossa memória". - permitem identificar a predominância da função da linguagem:

- a) Apelativa.
- b) Fática.

- c) Referencial.
- d) Emotiva.
- e) Metalinguística.

**Questão 03**

Marque a alternativa com a série que apresenta, respectivamente: dígrafo em termo oxítono, hiato em termo proparoxítono, ditongo crescente.

- a) Companhia, saúde, animais.
- b) Sutil, passear, famílias.
- c) Sonhar, voando, suas.
- d) Ilhas, criaturas, beija.
- e) Chegar, devíamos, hortênsias.

**Questão 04**

Sobre os componentes linguísticos estruturais do texto, marque a alternativa INCORRETA.

- a) No trecho: "... duram apenas o instante em que vão sendo sonhadas, ..." - temos sujeito composto e predicado verbal formado por tempo composto.
- b) A oração escrita com termos conotativos: "Ou habitar uma tarde prateada de Florença, ..." - inicia com conjunção coordenativa alternativa.
- c) Na expressão: "flechas voando atrás de sombras velozes!" - temos exemplo de prosopopeia
- d) A palavra trissílaba: "habitar" tem sete letra e seis fonemas.
- e) A oração: "E logo se apagam sem outro vestígio que a nossa memória". - destaca um pronome oblíquo proclítico, com função sintática de objeto direto.

**Questão 05**

Analise as informações sobre a composição do (1º§) com V (Verdadeiro) ou F (Falso).

- ( ) Inicia com locução verbal com ideia hipotética.
- ( ) A expressão: "os nossos sonhos" completa o sentido direto da locução verbal.
- ( ) A expressão: "os nossos sonhos" estabelece comparação.
- ( ) Na expressão: "as suas composições", temos exemplo de concordância nominal.

Em seguida, marque a alternativa CORRETA.

- a) V, V, F, F.
- b) V, V, V, F.
- c) V, F, V, V.
- d) V, V, V, V.
- e) F, V, F, V.

**Questão 06**

Marque os parágrafos que iniciam com locução verbal formada pelo verbo auxiliar no tempo do modo indicativo, que enuncia ideia pretérita continua.

- a) (2º§) e (4º§).
- b) (1º§), (3º§) e (5º§).
- c) (1º§), (4º§) e (7º§).
- d) (2º§), (5º§) e (7º§).
- e) (3º§) e (6º§).

**Questão 07**

Variação linguística é o movimento comum e natural de uma língua, que varia principalmente por fatores históricos e culturais. É o modo pelo qual se usa a língua, sistemática e coerentemente, de acordo com o contexto histórico, geográfico e sociocultural no qual os falantes dessa língua se manifestam verbalmente.

Analise as enunciações seguintes:

I. Em: "Vou à feirinha comprar jerimum (abóbora)", temos uma variação regional.

II. As variedades estilísticas comportam as mudanças da língua de acordo com o grau de formalidade, ou seja, a língua pode variar entre uma linguagem formal ou uma linguagem informal. Se estivermos preparando um discurso para a formatura de Médicos, devemos adequar a linguagem num nível formal, porque o evento impõe a formalidade.

III. A gíria é normalmente relacionada à linguagem de grupos de jovens (skatistas, surfistas, rappers, entre outros.). Enquanto o jargão, em geral, está relacionado à linguagem de grupos profissionais (professores, médicos, advogados, engenheiros, etc.)

Está(ão) em conformidade com "Variação linguística"

- a) I apenas.
- b) I e II apenas.

- c) II apenas.
- d) II e III apenas.
- e) I, II e III.

### Questão 08

Marque o parágrafo que inicia com palavra que tem o sentido de: "Desta forma".

- a) (6º§).
- b) (5º§).
- c) (2º§).
- d) (7º§).
- e) (4º§).

### Questão 09

Marque a alternativa com oração que apresenta os termos essenciais escritos na ordem direta.

- a) "quando foram mais merecedores de amor imortal".
- b) "E sonhar com os que amamos e conhecemos".
- c) "Rios que vão subindo por cima das ilhas ...".
- d) "Tudo seria como quem resolve uma viagem".
- e) "E estaríamos abstraindo de um mundo de problemas".

### Questão 10

Marque a frase nominal escrita com vocativo.

- a) Ah! Sabemos que sonhar faz parte da vida".
- b) "Lugares recordados ou apenas imaginados".
- c) "São João Batista, o Rei Davi, a cantar, o Príncipe Gautama".
- d) "Quantos lugares, meu Deus, para essas excursões!".
- e) "Campos orientais atravessados por nuvens de pavões".

### Questão 11

Analise as informações sobre a composição do (2º§) com V (Verdadeiro) ou F (Falso).

- () Na série de termos: "que", "assim", "que", "montanhas", um monossílabo, um dissílabo e um trissílabo, todos escritos com dígrafos.
- () As palavras: "excursões" e "imaginação" têm "

"TIL" por questão de nasalização da vogal que coincide com a sílaba tônica, mas não justifica a tonicidade oxítônica.

() As palavras: "de", "onde", "desde" são invariáveis.

() Nas expressões: "os fabulosos animais do Zodíaco" e "a nossa imaginação", temos exemplos de concordâncias nominais

Em seguida, marque a alternativa correta.

- a) V, V, V, F.
- b) V, F, V, V.
- c) V, V, V, V.
- d) V, V, F, F.
- e) V, V, F, V.

### Questão 12

Analise as enunciações seguintes com V(Verdadeiro) ou F(Falso).

() Coesão textual é a conexão, a ligação, a harmonia que existe entre os elementos de um texto. A coesão é percebida quando, num texto, comprovamos que as palavras, as frases e os parágrafos estão entrelaçados, um dando continuidade ao outro, portanto, harmonizando as ideias.

() Os elementos de coesão determinam a transição de ideias entre as frases e os parágrafos, tornando-os compreensíveis e elegantes.

() Na frase: "Cursei Faculdade de Letras Vernáculas, sou formada, mas aprendi alguma coisa". - não temos coesão, porque a conjunção "mas" está mal usada, não cabe neste contexto, uma vez que o Curso de Letras Vernáculas prepara a pessoa profissionalmente para ensinar, portanto para ser Professor de Língua Portuguesa. A conjunção correta seria coordenativa aditiva "e".

() Na frase: "Fui ao Rio de Janeiro, lá, encontrei amigos de infância". - o advérbio "lá" harmoniza a ideia tornando-a mais elegante.

Em seguida, marque a alternativa CORRETA.

- a) V, V, F, V.
- b) V, F, V, V.
- c) V, V, F, F.

- d) F, V, V, F.
- e) V, V, V, V.

### Questão 13

Sobre os componentes linguísticos estruturais do (7º§), marque a alternativa incorreta.

- a) No período: "portanto sonhe, sonhe e sonhe sempre". - predomina a função apelativa.
- b) A vírgula de: "A propósito, você gostaria de sonhar o que esta noite?" - separa expressão anteposta ao núcleo do sujeito simples.
- c) A expressão: "Ah!" é interjeição com pontuação exclamativa.
- d) O verbo "sabemos" identifica o sujeito elíptico pela desinência "mos".
- e) O termo: "que" pertence à mesma classe gramatical de "sempre".

### Questão 14

Sobre o trecho: "Ou<sup>1</sup> chegar a<sup>2</sup> Ouro Preto e continuar a ouvir aquela menina que<sup>3</sup> estuda piano há duzentos anos, hesitante e invisível - enquanto o cavalo branco escolhe, de olhos baixos, o trevo de quatro folhas que vai comer...". - marque a alternativa INCORRETA.

- a) O substantivo comum: "Cavala" é o feminino de cavalo, formado por homonímia.
- b) A expressão: "há duzentos anos" exemplifica hipérbole.
- c) Sublinhamos, respectivamente: conjunção coordenativa alternativa, preposição imposta pela regência verbal, pronome relativo.
- d) O período: "Ou chegar a Ouro Preto e continuar a ouvir aquela menina" é composto por coordenação aditiva sindética.
- e) A expressão: "de olhos baixos" refere-se à forma como o animal se volta para o trevo de quatro folhas.

### Questão 15

Sobre os componentes linguísticos do texto seguinte, marque a alternativa INCORRETA.

"Sonho meu, sonho meu, / Vai buscar quem mora longe, sonho meu! / Vai mostrar essa saudade, sonho meu, / Com a sua liberdade, sonho meu / No meu céu a estrela guia se perdeu / A madrugada fria / Só me traz melancolia, sonho meu! / Sinto o conto da noite na boca do vento / Fazer a dança das flores

no meu pensamento! / Traz a pureza de um samba / Sentindo, marcado de mágoas de amor, / Um samba que mexe o corpo da gente, / O vento vadio embalando a flor! (Ivone Lara e Delcio Carvalho)

- a) Em: "Sonho meu, sonho meu" - temos vocativo.
- b) O verso: "Sinto o conto da noite na boca do vento" está escrito com catacrese.
- c) A expressão: "Sonho meu" representa o sujeito de todos os versos em que ele aparece.
- d) A expressão sublinhada no verso: "No meu céu a estrela guia se perdeu" equivale a "foi perdida".
- e) O verso: "Vai mostrar essa saudade, sonho meu" enuncia ordem ou conselho.

## Matématica

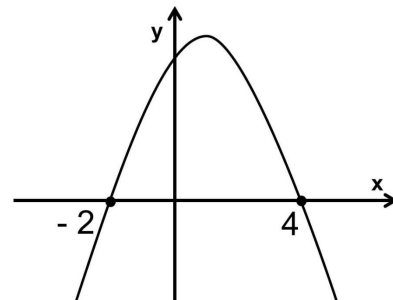
### Questão 16

Júlio foi participar de uma peregrinação e depois de dar 250 passos descobriu que estava a 5000m do local de chegada. Quantos metros faltavam para Júlio alcançar o seu objetivo, depois de ter dado 1250 passos?

- a) Faltavam 1000m.
- b) Faltavam 1250m.
- c) Faltavam 25000m.
- d) Faltavam 10000m.
- e) Faltavam 50m.

### Questão 17

Em qual das opções dadas está a função representada no gráfico dado?

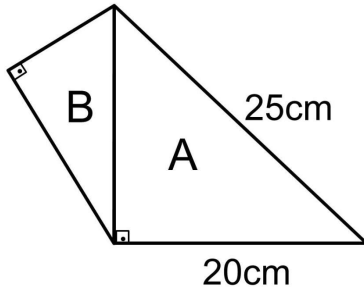


- a)  $f(x) = -x^2 + 2x + 8.$
- b)  $f(x) = x^2 - 2x + 8.$
- c)  $f(x) = x^2 + 2x + 4.$
- d)  $f(x) = -x^2 + 4x - 8.$

e)  $f(x) = x^2 + 8x + 4$ .

**Questão 18**

Qual o valor da medida da hipotenusa do triângulo B, dado na figura abaixo?



- a) A hipotenusa do triângulo B mede 15cm.
- b) A hipotenusa do triângulo B mede 3cm.
- c) A hipotenusa do triângulo B mede 5cm.
- d) A hipotenusa do triângulo B mede 45cm.
- e) A hipotenusa do triângulo B mede 9cm.

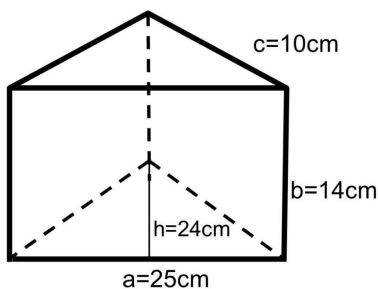
**Questão 19**

Uma campanha de arrecadação de alimentos levou para a comunidade "Nosso Povo" 1870 pacotes de 2kg de arroz. Se nesta comunidade residem 2200 famílias e cada uma receberá apenas um pacote, qual a porcentagem de famílias que não recebeu?

- a) 85% das famílias.
- b) 5% das famílias.
- c) 15% das famílias.
- d) 40% das famílias.
- e) 10% das famílias.

**Questão 20**

Qual é a área (A) da superfície do prisma triangular dado na imagem abaixo?



- a)  $A = 1230\text{cm}^2$ .
- b)  $A = 1580\text{cm}^2$ .
- c)  $A = 440\text{cm}^2$ .
- d)  $A = 790\text{cm}^2$ .
- e)  $A = 880\text{cm}^2$ .

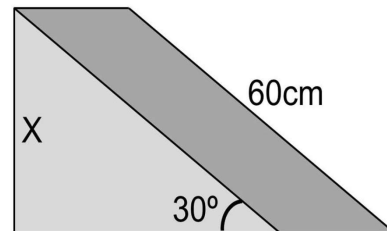
**Questão 21**

Mariana fechou os olhos e escolheu aleatoriamente um de seus anéis que estavam guardados em uma caixa. Sabendo que ela possui 3 anéis com pedras brancas, 2 anéis com pedras azuis e 6 anéis sem pedras, qual a chance de Mariana retirar da caixa um anel sem pedra?

- a) A chance é de 50%.
- b) A chance é de 2%.
- c) A chance é de 12%.
- d) A chance é de 5%.
- e) A chance é de 6%.

**Questão 22**

Um travesseiro anti-refluxo deve ser produzido conforme as medidas dadas na imagem.



Qual deve ser a medida X, da altura deste travesseiro?

- a)  $X = 40\text{cm}$ .
- b)  $X = 45\text{cm}$ .
- c)  $X = 1/2\text{cm}$ .
- d)  $X = 30\text{cm}$ .
- e)  $X = 60\text{cm}$ .

**Questão 23**

Bruna tem uma quantidade x de dinheiro guardado e sua irmã Bia tem o triplo. Se as duas juntas tem R\$1200,00. Quantos reais Bruna tem guardados?

- a) Bruna tem R\$300,00.

- b) Bruna tem R\$350,00.
- c) Bruna tem R\$250,00.
- d) Bruna tem R\$400,00.
- e) Bruna tem R\$200,00.

**Questão 24**

Cláudio toma três medicamentos diariamente: um de 6 em 6 horas, um de 8 em 8 horas e o outro de 12 em 12 horas. Se ele tomou os três medicamentos ao mesmo tempo às 7h da manhã, que horas os tomará juntos novamente?

- a) Às 19h do mesmo dia.
- b) Às 18h do mesmo dia.
- c) Às 12h da manhã do outro dia.
- d) Às 7h da manhã do outro dia.
- e) Às 0h da madrugada do mesmo dia.

**Questão 25**

Uma aplicação feita a juros simples de taxa 2%a.m. durante 3 meses, rendeu R\$1800,00. Quanto renderia esta mesma aplicação se fosse feita a juros compostos?

- a) A aplicação renderia R\$1836,24.
- b) A aplicação renderia R\$31836,24.
- c) A aplicação renderia R\$18362,40.
- d) A aplicação renderia R\$30000,00
- e) A aplicação renderia R\$48362,40.

**Conhecimentos Gerais****Questão 26**

Sobre fatores geográficos do município de Ibiraçu é correto afirmar que:

- I. A cidade litorânea mais próxima é Aracruz.
- II. Faz divisa com o município de Santa Teresa.
- III. É cortado pela rodovia BR262.
- IV. Não possui cursos hídricos.

Analisando as informações acima é possível afirmar que:

- a) Os itens II e III estão corretos.

- b) Os itens I e II estão corretos.
- c) Os itens I e IV estão corretos.
- d) Os itens II e IV estão corretos.
- e) Os itens I e III estão corretos.

**Questão 27**

Uma mudança na legislação educacional anunciada pelo governo federal tem sido tema de debate, dada a polêmica da decisão. Contrariando o processo de inclusão desenvolvido há muitos anos nas instituições de ensino de todos os níveis, a "Política Nacional de Educação Especial: Equitativa, Inclusiva e com Aprendizado ao Longo da Vida" é defendida pelo governo sob o argumento de que:

- a) As instituições de ensino não devem trabalhar com a preocupação de socializar estudantes com necessidades especiais.
- b) A participação de estudantes com condições de aprendizagem diferentes em uma mesma sala prejudica aqueles que têm mais facilidade para aprender.
- c) A família não tem direito de opinar sobre o processo de aprendizagem de seus jovens.
- d) É dever do Estado diferenciar o ensino oferecido a estudantes com graus de dificuldades diferenciados.
- e) É direito do estudante e da família escolher se quer frequentar uma sala onde apenas crianças com necessidades especiais estejam matriculadas.

**Questão 28**

No auge das discussões mundiais sobre a busca por uma vacina que possa imunizar a população contra o novo coronavírus, o Brasil ganha espaço na mídia por protagonizar um impasse entre usar ou não usar no processo de imunização da população brasileira a vacina CoronoVac, fabricada pela farmacêutica Sinovac Life Science e um dos maiores institutos brasileiros de pesquisa. Qual o nome deste instituto?

- a) Instituto Brasil.
- b) Instituto UFRJ.
- c) Instituto Fio Cruz.
- d) Instituto Butantan.
- e) Instituto USP.

**Questão 29**

O Banco Central Brasileiro entrou para a era dos bancos digitais e criou um meio de realização de



transações bancárias que promete ser mais rápido e prático e pode ser utilizado nas plataformas de qualquer instituição bancária. A novidade do BC é chamada de:

- a) Bank-x.
- b) Finanx.
- c) Bits.
- d) Pix.
- e) Financis.

### Questão 30

Diante da pandemia que assolou várias partes do mundo, as relações internacionais se tornaram cada vez mais estreitas e os esforços em busca de soluções para amenizar o sofrimento e evitar a morte de milhões de pessoas foram norteados por uma agência especializada em saúde pública, subordinada à ONU. Estamos falando da:

- a) HABITAT.
- b) PNUD.
- c) UNICEF.
- d) OMS.
- e) UNCTAD.

### Questão 31

"As unidades de conservação (UCs) estaduais estão autorizadas a receber o público visitante seguindo as etiquetas sanitárias contra o novo Coronavírus (Covid-19). De acordo com a portaria Nº 142-R, publicada no dia 18 de agosto, o Governo do Estado do Espírito Santo autorizou a reabertura das unidades de conservação seguindo a classificação do Mapa de Gestão de Risco."

[www.iema.es.gov.br](http://www.iema.es.gov.br)

Qual dos itens abaixo **NÃO** denomina uma Unidade de Conservação do estado do Espírito Santo?

- a) Parque Estadual da Ilha Grande.
- b) Parque Estadual da Pedra Azul.
- c) Parque Estadual Cachoeira da Fumaça.
- d) Parque Estadual do Forno Grande.
- e) Parque Estadual de Itaúnas.

### Questão 32

"Autoridade mundial em beija-flores e orquídeas; foi um dos primeiros homens a denunciar os efeitos danosos do DDT (utilizado na agricultura) sobre a natureza; a enfrentar a ditadura militar e denunciar o início da derrubada da Floresta Amazônica; a prever

a escassez de água no mundo e o aquecimento global, e a denunciar o efeito danoso da agricultura em larga escala, com fertilizantes e agrotóxicos. No Espírito Santo, fundou o Museu de Biologia Mello Leitão (em Santa Teresa, onde nasceu) e no Rio de Janeiro colaborou na elaboração da Fundação Brasileira para Conservação da Natureza."

[www.es.gov.br/historia/povo-capixaba](http://www.es.gov.br/historia/povo-capixaba)

Qual o nome do capixaba que o texto cita como notável ecologista reconhecido em todo o Brasil?

- a) Aristides Guaraná.
- b) Chico Mendes.
- c) Augusto Ruschi.
- d) Dionísio Ribeiro Filho.
- e) Conde D'Eu.

### Questão 33

Estudos comprovam que durante o ápice do isolamento social, que se fez necessário em função da pandemia do coronavírus, muitos comerciantes conseguiram manter sua renda e, em alguns casos até aumentar, graças à influência da tecnologia também neste segmento. Qual é o nome dado ao comércio realizado por meio digital?

- a) net-commerce.
- b) bit-commerce.
- c) digital-commerce,
- d) giga-commerce.
- e) e-commerce.

### Questão 34

Já há algum tempo que, todos os anos, estudantes do Brasil inteiro têm como principal forma de ingressar em uma faculdade uma avaliação realizada simultaneamente em todo o país. Porém, devido à pandemia do novo coronavírus, a realização da prova do ano de 2020 teve que ser adiada para 2021. Qual o nome desta avaliação?

- a) ENEM (Exame Nacional do Ensino Médio).
- b) PROBRA ( Prova Brasileira).
- c) SIFAC (Sistema de Ingresso na Faculdade).
- d) PRONEM (Prova Nacional do Ensino Médio).
- e) ENAE ( Exame Nacional Educacional).

### Questão 35

Entre distritos e povoados **NÃO** faz parte do território de Ibiraçu a localidde de:

- a) Caboclo Bernardo.
- b) Pendanga.
- c) Guatemala.
- d) Jacupemba.
- e) Pedro Palácios.

### Conhecimentos Específicos

#### Questão 36

Dentro do gênero de documentos escritos, a correspondência merece tratamento especial por se constituir numa parte considerável dos acervos arquivísticos. Em relação à correspondência, assinale a alternativa INCORRETA:

- a) Correspondência particular é a de interesse pessoal de servidores de uma instituição.
- b) Considera-se correspondência toda e qualquer forma de comunicação escrita, produzida e destinada a pessoas jurídicas ou físicas, e vice-versa
- c) A correspondência interna é aquela trocada entre os órgãos de uma mesma instituição.
- d) Correspondência oficial é aquela que trata de assunto de serviço ou de interesse específico das atividades de uma instituição.
- e) Por correspondência externa entende-se aquela trocada entre uma instituição e outras entidades e/ou pessoas físicas, como os memorandos, despachos, circulares.

#### Questão 37

"Estoque é toda e qualquer porção armazenada de material, com valor econômico para a organização, que é reservada para emprego em momento futuro, quando se mostrar necessária às atividades organizacionais" (FENILI, 2016). Sobre os estoques, assinale a alternativa CORRETA:

- a) Embora seja oneroso manter estoques eles podem ser uma oportunidade de investimento, proteger de atrasos e grandes estoques podem implicar economia de escala.
- b) Os estoques podem ser abastecidos utilizando o sistema de reposição periódica, modelo no qual sempre que o estoque atingir uma determinada quantidade, um novo pedido de compra é emitido.
- c) Os estoques podem ser abastecidos utilizando o sistema de reposição contínua. A quantidade comprada, somada com a existente em estoque, deve ser suficiente para atender o consumo até a chegada da encomenda seguinte.

- d) A manutenção de estoques é essencial para todas as organizações, por isso o ideal é sempre manter altos níveis de estoques.
- e) O estoque máximo é uma quantidade de itens de material que são mantidos a fim de prover a continuidade do abastecimento quando ocorrem situações imprevisíveis.

#### Questão 38

Os manuais de processos administrativos têm por objetivo racionalizar e padronizar procedimentos gerais referentes à gestão de protocolo e estabelecer uniformidade de procedimentos (BRASIL, 2013). Sobre os processos administrativos, assinale a alternativa correta:

- a) As atividades de protocolo compreendem receber, auditar e autuar a movimentação de documentos e processos.
- b) Os processos de mera tramitação que constituem a grande quantidade dos instrumentos da administração, são aqueles em que há prioridade na tramitação.
- c) Em alguns casos, os documentos podem dar origem a um processo. Essa atividade é chamada de "tramitação de processo".
- d) Por definição, a autuação de um processo significa um conjunto de documentos em curso ou que, mesmo sem movimentação, constituam objeto de consultas frequentes.
- e) A lei nº 12.008, de 29.7.2009, introduziu, na lei no 9.784/99, o art. 69-a e seus parágrafos, nos quais assegura prioridade na tramitação de processos administrativos quando forem partes ou interessadas algumas pessoas cuja situação peculiar as insere em círculo especial de proteção, tais como idosos, deficientes e pessoas portadoras de doenças graves.

#### Questão 39

Conforme suas características, forma e conteúdo, os documentos podem ser classificados segundo o gênero e a natureza do assunto. Assinale a alternativa que não corresponde ao gênero dos documentos:

- a) Escritos ou textuais: documentos manuscritos, datilografados ou impressos.
- b) Iconográficos: documentos em suportes sintéticos contendo imagens em movimento.
- c) Filmográficos: documentos em películas cinematográficas e fitas magnéticas de imagem contendo imagens em movimento.

- d) Sonoros: documentos com dimensões e rotações variáveis, contendo registros fonográficos.
- e) Cartográficos: documentos em formatos e dimensões variáveis, contendo representações geográficas, arquitetônicas ou de engenharia.

**Questão 40**

Nos termos dos arts. 2º, 29 e 31 da CF o governo municipal realiza-se através de dois Poderes: a Prefeitura e Câmara de Vereadores. Sobre tais poderes assinale a alternativa correta:

- a) Embora os Poderes da Administração local sejam distintos, ambos são subordinados e dependentes um do outro.
- b) O sistema de divisão de funções estimula que o órgão de um Poder exerça as atribuições de outro Poder.
- c) A Prefeitura e Câmara de Vereadores possuem funções específicas e indelegáveis.
- d) O sistema brasileiro prevê para o governo municipal funções divididas, cabendo à Câmara de Vereadores as executivas e à Prefeitura as legislativas.
- e) Entrosando suas atividades específicas, a Câmara de Vereadores e a Prefeitura devem realizar com dependência e harmonia o governo local, seguindo os princípios da Constituição da República e da Constituição Estadual e nas condições expressas na Carta Própria do Município.

**Questão 41**

Dentre as opções abaixo, o programa mais utilizado no sistema Linux para a elaboração de textos, ofícios e relatórios recebe o nome de:

- a) Foxit Reader
- b) Microsoft Word.
- c) Google Docs
- d) Microsoft Office.
- e) Writer.

**Questão 42**

A ética é um assunto largamente discutido em diversas perspectivas. Sobre a ética profissional, analise as assertivas abaixo:

- I. Com certeza a ética aplicada surge de uma derivação da ética geral.
- II. A ética profissional se destaca de dentro da ética

aplicada como um ramo específico que se relaciona com os mandamentos fundamentais das relações laborais.

III. É como especialização de conhecimentos aplicados que a ética profissional se vincula às ideias de utilidade, prestatividade, lucratividade, categoria laboral, engajamento em modos de produção ou prestação de serviços, exercício de atividades regularmente desenvolvidas de acordo com finalidades sociais.

IV. O estatuto ético de uma determinada profissão é definido segundo as necessidades do profissional, independente da responsabilidade que dela provém em face dos outros.

Após análise, assinale a alternativa CORRETA.

- a) Somente II e IV estão corretas.
- b) Somente I, II e III estão corretas.
- c) Somente II e III estão corretas.
- d) I, II, III e IV estão corretas.
- e) Somente II, III, IV estão corretas.

**Questão 43**

Segundo Fenili (2016) ao inserir a gestão de materiais na administração pública pode-se afirmar que os materiais são os recursos públicos, adquiridos e mantidos com recursos oriundos da sociedade. Há, portanto, o dever do agente de empregá-los da melhor forma. Assinale a alternativa CORRETA em relação aos objetivos da gestão de materiais:

- a) O objetivo central da administração de recursos materiais é maximizar o uso dos recursos materiais na organização pública, ou seja, evitar desperdícios.
- b) Um objetivo secundário da gestão de materiais é suprir a organização dos materiais necessários ao seu desempenho, antecipando os pedidos e mantendo alto nível de estoque.
- c) Um objetivo secundário da gestão de materiais é aumentar os estoques e minimizar o uso dos recursos materiais.
- d) O objetivo central da administração de recursos materiais é minimizar o uso dos recursos materiais na organização pública, ou seja, evitar desperdícios.
- e) Um objetivo secundário da gestão de materiais é praticar preços econômicos, receber e armazenar obrigatoriamente os bens em um mesmo espaço, com o intuito de reduzir custos de alocação.

**Questão 44**

Em relação à competência de cada órgão municipal, assinale a alternativa correta:

- a) O Departamento Municipal de Fazenda é o órgão auxiliar dos Vereadores de execução e controle das atividades relacionadas à coordenação da política fazendária Municipal, estabelecendo programas, projetos e atividades relacionadas com a área financeira, contábil, fiscal e tributária.
- b) O Departamento Municipal de Desenvolvimento Social é o órgão de assessoramento ao Prefeito e aos demais órgãos da Prefeitura voltados a execução de obras e serviços públicos.
- c) O Departamento Municipal de Infraestrutura é o órgão de assessoramento aos Vereadores e aos demais órgãos da Câmara Municipal voltados a execução de obras e serviços públicos.
- d) A assessoria jurídica é o órgão de assessoramento contábil, financeiro e de contratos do Prefeito e demais órgãos.
- e) O Departamento de Governo, Administração e Planejamento é o órgão auxiliar do Prefeito que atuará nas relações com as demais esferas de governo na formulação e execução das ações relacionadas com a administração municipal e execução e controle das atividades relacionadas com recursos humanos, licitação, compras, contratos, almoxarifado e patrimônio da Prefeitura.

**Questão 45**

Existe uma diversidade de componentes e configurações que formam o conjunto de hardware do computador.

I. O Gabinete ou Case contém: a Placa-mãe, as memórias, as unidades de disco rígido e discos removíveis. Ou seja, os principais componentes do computador estão contidos no gabinete.

II. Os dispositivos que ficam fora do gabinete são conhecidos como periféricos de Entrada ou Periféricos de Saída. Também há periféricos que são simultaneamente de Entrada e Saída, por exemplo, multifuncional.

III. Os periféricos de entrada ou input device são comunicação capaz de enviar dados à CPU: monitor de vídeo, caixas acústicas e impressora.

IV. Os periféricos de saída ou output device geram saídas, resultados do processamento: teclado, mouse e scanner.

V. A RAM (Random Access Memory) ou Memória de

Acesso Aleatório é conhecida também como Memória de Trabalho ou Memória Temporária, por armazenar os dados que estão sendo trabalhados e que serão perdidos, em caso de interrupção da alimentação elétrica do computador.

Estão CORRETAS as afirmativas:

- a) Somentes III e IV estão corretas.
- b) Somente I, II e V estão corretas.
- c) I, II, III, IV e V estão corretas.
- d) Somente I, II estão corretas.
- e) Somente I, III, IV e V estão corretas.

**Questão 46**

Referente às rotinas de expedição de documentos, assinale a alternativa que NÃO compreende uma de suas atividades:

- a) Encaminhar as cópias ao setor de arquivamento, acompanhadas dos antecedentes que lhes deram origem.
- b) Separar o original das cópias. Expedir o original, com os anexos se for o caso, por meio de malotes ou em mãos.
- c) Elaborar o resumo do assunto a ser lançado na ficha de protocolo.
- d) Receber a correspondência (original, envelope e cópias em quantidades a serem determinadas).
- e) Verificar se não faltam folhas ou anexos. Numerar e completar a data, no original e nas cópias.

**Questão 47**

Marque a alternativa CORRETA.

A administração direta:

- a) É o mesmo que administração descentralizada.
- b) É quando o Estado delega funções para as autarquias, as empresas públicas, as sociedades de economia mistas e as fundações públicas.
- c) Possui personalidade jurídica própria, patrimônio e autonomia administrativa, uma vez que seus orçamentos não são subordinados às esferas das quais fazem parte.
- d) É formada por órgãos públicos.
- e) É quando o Estado transmite a realização de determinadas funções para outras pessoas jurídicas que possuem autonomia administrativa e financeira

**Questão 48**

A União, os Estados, o Distrito Federal e os Municípios poderão instituir os seguintes tributos:

I. Impostos;

II. Taxas, em razão do exercício do poder de polícia ou pela utilização, efetiva ou potencial, de serviços públicos específicos e divisíveis, prestados ao contribuinte ou postos a sua disposição;

III. Contribuição de melhoria, decorrente de obras públicas.

Após análise, marque a alternativa CORRETA:

- a) Somente os itens I e II estão errados.
- b) Somente os itens I e II estão corretos.
- c) Os itens I, II e III estão corretos.
- d) Os itens I, II e III estão errados.
- e) Somente o item III está correto.

**Questão 49**

Marque a alternativa CORRETA.

Para os fins da Lei nº 8.666/93, considera-se:

- a) Projeto Executivo - quando se ajusta mão-de-obra para pequenos trabalhos por preço certo, com ou sem fornecimento de materiais.
- b) Execução indireta - a que é feita pelos órgãos e entidades da Administração, pelos próprios meios.
- c) Contratante - comissão, permanente ou especial, criada pela Administração com a função de receber, examinar e julgar todos os documentos e procedimentos relativos às licitações e ao cadastramento de licitantes.
- d) Administração Pública - somente a administração direta da União, dos Estados, do Distrito Federal e dos Municípios. Não considera a administração indireta.
- e) Serviço - toda atividade destinada a obter determinada utilidade de interesse para a Administração, tais como: demolição, conserto, instalação, montagem, operação, conservação, reparação, adaptação, manutenção, transporte, locação de bens, publicidade, seguro ou trabalhos técnico-profissionais.

**Questão 50**

Conforme os direitos e garantias fundamentais, marque a alternativa INCORRETA:

- a) Ninguém será privado de direitos por motivo de crença religiosa ou de convicção filosófica ou política, salvo se as invocar para eximir-se de obrigação legal a todos imposta e recusar-se a cumprir prestação alternativa, fixada em lei.
- b) Ninguém será obrigado a fazer ou deixar de fazer alguma coisa senão em virtude de lei.
- c) São invioláveis a intimidade, a vida privada, a honra e a imagem das pessoas, assegurado o direito a indenização pelo dano material ou moral decorrente de sua violação.
- d) É inviolável o sigilo da correspondência e das comunicações telegráficas, de dados e das comunicações telefônicas, salvo, se houver real necessidade de violação para instruir processo administrativo.
- e) É assegurado a todos o acesso à informação e resguardado o sigilo da fonte, quando necessário ao exercício profissional.